

ВСЕРОССИЙСКАЯ ОЛИМПИАДА ШКОЛЬНИКОВ  
ПО ИСТОРИИ  
2024-2025  
(ШКОЛЬНЫЙ ЭТАП)

возрастная группа – 9 класс

**Уважаемый Участник олимпиады!**

Перед Вами задания школьного этапа всероссийской олимпиады школьников по истории. Для их выполнения у Вас есть 90 минут.

Задания считаются выполненными, если Вы своевременно сдали бланк с ответами членам жюри.

Обращаем внимание, при выполнении заданий внимательно читайте текст заданий. Содержание ответа вписывайте в отведённые поля, записи ведите чётко и разборчиво. За каждый правильный ответ Вы можете получить определённое членами жюри количество баллов (количество баллов прописано в самом задании). Баллы, полученные Вами за выполненные задания, суммируются. Максимально возможное количество баллов за работу — 100.

Желаем Вам успеха! Мы верим, что Вы соберётесь и выполните задания!

**!Записи в черновике не учитываются при оценивании работы.**

**!Записи карандашом не проверяются**

Задания школьного этапа  
Всероссийской олимпиады школьников по истории  
9 класс  
2024-2025

**I. Задание с выбором одного ответа из предложенных (10 баллов)**

1. Совместный поход князей в 1111 году против половцев возглавил: (1 балл)

- а) Олег Святославич
- б) Святополк Изяславич
- в) Владимир Мономах
- г) Мстислав Владимирович

2. Год окончания столетней войны совпадает с годом: (1 балл)

- а) Начала княжения Василия II
- б) Начала династической войны
- в) Окончания династической войны
- г) начала правления Ивана III

3. Какое событие во внешней политике не относится к правлению

Михаила Фёдоровича: (1 балл)

- а) Деулинское перемирие
- б) Андрусовское перемирие
- в) Поляновский мир
- г) Столбовский мир

4. Какое событие произошло позже всех? (1 балл)

- а) призвание Рюрика в Новгород
- б) война Алой и Белой розы в Англии
- в) Ледовое побоище
- г) Разделение христианской церкви на восточную(православную) и западную(католическую)

5. Кто не входил в состав Избранной Рады? (1 балл)

- а) Андрей Курбский
- б) Василий Голицын
- в) Алексей Адашев
- г) Сильвестр

6. Современниками были: (1 балл)

575 - 576

3063

- а) Екатерина II, Салават Юлаев, Кинзя Арсланов, Панин  
 б) Екатерина II, Салават Юлаев, Батырша, Панин  
 в) Екатерина II, Салават Юлаев, Кинзя Арсланов, Павел Ягужинский  
 г) Екатерина II, Салават Юлаев, Кинзя Арсланов, Пётр Толстой

7. Какое событие произошло раньше всех? (1 балл)

- а) Медный бунт  
 б) Присоединение Крыма к России  
 в) Открытие Америки  
 г) Стояние на р. Угре

8. Бывшие монастырские крестьяне при Екатерине II стали называться:  
 (1 балл)

- а) Посессионными  
 б) Приписными  
 в) Экономическими  
 г) Дворцовыми

9. Церковь Покрова на Нерли была построена при: (1 балл)

- а) Владимире Мономахе  
 б) Юрии Долгоруком  
 в) Андрее Боголюбском  
 г) Всеволоде Большое Гнездо

10. Памятник Н. Я. Киселёву, спасшему в 1942 г. 218 евреев – стариков, детей, женщин, – находится в: (1 балл)

- а) Белзбее  
 б) Благоевченске  
 в) Стерлитамаке  
 г) Бирске

Ответ:

1	2	3	4	5	6	7	8	9	10
<del>б</del>	<del>в</del>	<del>г</del>	а	б	в	г	д	е	ж

11. Задание с выбором нескольких ответов из предложенных (7 баллов)

1. Прославленные лётчики Великой Отечественной войны (3 балла):

- а) Д. М. Карбышев  
 б) Муса Гареев  
 в) И. Н. Кождуб  
 г) В. Г. Зайцев

1. А. И. Дьячкин

Ответ: а, в, г 3 б

2. К правлению Алексея Михайловича относятся (3 балла): 1645 – 1676

- а) Ликвидация местничества  
 б) Ликвидация белых слобод в городах  
 в) Создание Приказа тайных дел  
 г) Отмена кормлений  
 д) Восстание под предводительством Степана Разина  
 е) Воссоединение Украины с Россией

Ответ: а, в, г, е 4 б

III. Задание на установление последовательности (15 баллов)

1. Расставить в хронологической последовательности события из церковной жизни XIV-XVI вв. Запишите ответ в виде последовательности номеров событий в задании (5 баллов за верную последовательность, за ответ за 2 ошибками – 2 балла, за ответ с 4 ошибками – 0 баллов)

- а) Стоглавый собор, унифицировавший обряды 1551  
 б) Московское правительство возглавил митрополит Алексий  
 в) Иов избран патриархом 1589  
 г) Русская православная церковь становится автокефальной 1448  
 д) Митрополичья кафедра перенесена из Владимира в Москву

г	д	а	в	б
---	---	---	---	---

2. Расставить имена правителей по продолжительности правления, начиная с лидеров, правивших большее время (10 баллов)

1. 50 лет  
 Имена: Олег, Ярослав Мудрый, Дмитрий Донской, Василий III, Иван Грозный

2. 35 лет  
 3. 33 года  
 4. 30 лет  
 5. 28 лет

Ответ:

- 1- Иван Грозный  
 2- Ярослав Мудрый  
 3- Олег  
 4- Дмитрий Донской  
 5- Василий III

**IV. Задание на соответствие (7 баллов)**

**2. Соотности князей и их высказывания. Ответ оформить в таблице (7 баллов)**

1) Андрей Боголюбский	а) «Да будет это мать городов»
2) Ярослав Мудрый	б) «Какое вам зло я нанёс? Если кровь мою прольёте на земле, пусть бог отомстит вам за мой хлеб!»
3) Святослав Игоревич	в) «Вот перебею всех братьев и один буду править Русью»
4) Святополк Окаянный	г) «Вот взял уже ваш город славный. Слышал, что имеете сестру-девицу, если не отдадите её за меня, то сделаю со столицей вашей то же, что и этому городу»
5) Владимир I	д) «А всего походов было восемьдесят и три великих, а остальных и не упомяну меньших»
6) Олег	е) «Имейте любовь между собой, потому что все вы –братья»
7) Владимир Мономах	ж) «Иду на вы»

Ответ:

1	2	3	4	5	6	7
5	г	ж	б	з	а	е

**V. Задание на заполнение пропущенных элементов в тексте (24 балла)**

**1. Прочитайте текст и вставьте пропущенные в нём слова. (всего 24 балла)**

Высшим государственным органом, подчинённым монарху стал (1). Пётр I учредил его в (2) году, отправляясь в Прутский поход (2). Царь возложил на (1) высшие административные функции, наделил его правом издавать указы. Центральными органами власти стали сменившие приказы (3), созданием которых Пётр I занимается в 1718-1721 годах. Их функции были строго определены.

Ведущее место принадлежало трём первейшим (3) (4,5,6). Во главе (3) царь поставил лиц, на которых мог положиться. В частности, военную коллегия возглавил (7).

Для того чтобы не только разоблачать, но и предупреждать все случаи нарушения законов, Пётр I в 1722 г. создал (8) – высший контрольный орган,

следший за соблюдением законов. Во главе неё был поставлен - «око государево» (9). Первым (9) стал (10).

Реформы затронули и местное управление. В 1718 году страна была разделена на (11), которые состояли из (12) во главе с комендантами.

Ответ:

- 1- *правительствующий сенат*
- 2- *1711г*
- 3- *каменщи*
- 4- *каменщик - каменщик*
- 5- *штатские - каменщи*
- 6- *революции - каменщи*
- 7- *министров*
- 8- *только в рамках Третьей Думы*
- 9- *генерал - прокурор*
- 10- *Товари мужского дворянского*
- 11- *губернии*
- 12- *городов уезды*

**VI. Дать ответы на поставленные вопросы (12 баллов)**

**1. Прочитайте отрывок из документа и ответьте на вопросы к нему. (12 баллов)**

«В прошлом, в 1641 году обратились с просьбой к государю царю и великому князю всея Руси дворяне и дети боярские из разных городов всей земли...

Убегают от них старинные их крестьяне в разные города и большие поместья и в вотчины... и поселяются у бояр и окольных и других крупных столичных чинов людей на льготных условиях...

А если они узнают, у кого живут их беглые крестьяне и тогда они не могут добиться их выдачи в урочные годы по суду...»

Вопросы:

- а) К какому царю обращаются дворяне и дети боярские? Укажите годы его царствования.
- б) Судя по челобитной, чем были недовольны дворяне из разных мест России (т.е. провинциальные дворяне)?
- в) Почему крестьяне убежали от дворян к богатым и знатым людям?
- г) Какая была главная просьба дворян?

- д) Почему правительство не шло на удовлетворение главной просьбы дворян? Интересы какой социальной группы заигрывал вопрос о бегстве крестьян?  
 е) Какое событие заставило правительство обратиться к вопросу о беглых крестьянах? Что было сделано для решения данного вопроса?


Ответы:

- а) *Михаил Федорович (1613-1645)*  
 б) *крестьяне сбегали из помещичьих вотчин*  
 в) *для заработка, для покупки земель*  
 г) *заменить крестьянам богатых помещиков*  
 д) *крестьяне ставилим большую часть населения*  
 е)

✓  
 ✓  
 ✓  
 —  
 —  
 6

VII Задания по работе с иллюстративными источниками (25 баллов)

1. Ответьте на вопросы (7 баллов)




- а) Назовите архитектурный памятник  
 б) В честь какого события он был создан?  
 в) Назовите архитектурный стиль, в котором он построен

2. Внимательно посмотрите на портреты и выполните задания.

- а) *церковь вознесения на Казанском*  
 б) *романтизм далосадамского сына*  
*Василия III, Шайба IV*  
 в) *допетровский*

48



Задания:

- а) Назовите каждого человека, изображённого на портрете.  
 б) Что объединяет всех, кто изображён на портретах (т.е. по какому принципу создан ряд этих людей)?  
 в) Кто выпадает из этого ряда? Почему?

Ответ:

1. а-  
 б-  
 в-  
 г-  
 д-  
 е-  
 2- *все они являются партизанами В.О.В.*  
 3-

0

ВСЕРОССИЙСКАЯ ОЛИМПИАДА ШКОЛЬНИКОВ  
ПО ИСТОРИИ  
2024-2025  
(ШКОЛЬНЫЙ ЭТАП)

Задания школьного этапа  
Всероссийской олимпиады школьников по истории  
10 класс  
2024-2025

возрастная группа - 10 класс

**Уважаемый Участник олимпиады!**

Перед Вами задания школьного этапа Всероссийской олимпиады школьников по истории. Для их выполнения у Вас есть 90 минут.  
Задания считаются выполненными, если Вы своевременно сдали бланк с ответами членам жюри.

Обращаем внимание, при выполнении заданий внимательно читайте текст заданий. Содержание ответа вписывайте в отведённые поля, записи ведите чётко и разборчиво. За каждый правильный ответ Вы можете получить определённое членами жюри количество баллов (количество баллов прописано в самом задании). Баллы, полученные Вами за выполненные задания, суммируются. Максимально возможное количество баллов за работу — 100.

Желаем Вам успеха! Мы верим, что Вы соберётесь и выполните задания!

**! Записи в черновике не учитываются при оценивании работы.**

**! Записи карандашом не проверяются.**

**I. Задание с выбором одного ответа из предложенных (10 баллов)**

1. С именем какого правителя связано основание династии московских князей? (2 балла)

- а) Даниил Александрович
- б) Юрий Долгорукий
- в) Иван Калита
- г) Всеволод Большое гнездо

2. Какая историческая пара относится к событиям XVII века? (2 балла)

- а) Разгром печенегов – строительство собора св. Софии в Новгороде
- б) Ледовое побоище – нашествие Батые
- в) Приход к власти «семибоярщины» – Соляной бунт
- г) Создание стрелцкого войска – Ливонская война

3. Кто из перечисленных лиц был современником императора Александра I? (2 балла)

- а) А.П. Чехов
- б) С.О. Макаров
- в) П.И. Ягужинский
- г) А.А. Аракчеев

4. Что из перечисленного было следствием революционных событий 1905-1907 гг.? (2 балла)

- а) Учреждение Сената
- б) Создание Государственного Совета
- в) Учреждение Государственной Думы
- г) Подписание Манифеста об отречении от Престола

5. В каком году СССР вошел в число стран-участниц Антигитлеровской коалиции? (2 балла)

- а) 1939 г.
- б) 1941 г.
- в) 1935 г.
- г) 1943 г.

**II. Задание с выбором нескольких ответов из предложенных (6 баллов)**

30610

815

408

6. Назовите до трёх событий или явлений... (3 балла за полностью правильный ответ, при одной ошибке – 2 балла, при двух ошибках – 1 балл, более двух – 0 баллов)

А) связанных с преобразованиями в Российской империи второй четверти XVIII века:

1. Перенесение столицы России из Санкт-Петербурга в Москву
2. Введение всеобщей воинской повинности
3. Создание Кабинета министров
4. Жалованная грамота городам
5. Ликвидация Верховного тайного совета
6. Указ о вольных хлебопашах

Ответ: 2, 4, 5, 1, 3, 6

Б) связанных с Северной войной 1700-1721 гг.:

1. Сражение при Козлудже
2. Битва при Нарве
3. Сан-Стефанский мирный договор
4. Полтавская битва
5. Штурм Измаила
6. Ништадтский мир
7. Сражение при Калиакрии

Ответ: 2, 5, 6

### III. Задание на установление последовательности (14 баллов)

7. Восстановите правильную хронологическую последовательность событий. Запишите ответ в виде последовательности номеров событий в задании (1 верный ответ – 2 балла, все задание – макс. 14 баллов)

1. Учреждение Императорской Академии наук
2. Основание Императорского Московского университета
3. Создание Третьяковской галереи
4. Открытие Славяно-греко-латинской академии
5. Основание московского Большого театра
6. Открытие Русского музея
7. Создание Императорского Царскосельского лицея

4 1 2 7 5 3 6

### IV. Задания на соответствие (4 балла)

8. Найдите верное соответствие. Во втором столбце есть лишняя характеристика. Ответ дать в таблице. (4 балла – за полностью верный

ряд, 3 балла – при одной ошибке, 2 балла – при двух ошибках, 1 балл – при трёх ошибках, 0 баллов – при четырёх ошибках)

Соотнесите российского общественного деятеля и его партийную принадлежность:

1. А.И. Гучков	А. Русский монархический союз
2. П.Н. Милуков	Б. Партия социалистов-революционеров
3. В.М. Пуришкевич	В. «Союз 17 октября»
4. В.И. Ленин	Г. Конституционно-демократическая партия
5. В.М. Чернов	Д. Российская социал-демократическая рабочая партия (большевики)
	Е. «Русский народный союз имени Михаила Архангела»

1	2	3	4	5
В	Г	Е	Д	Б

### V. Задание на заполнение пропущенных элементов в тексте (33 балла)

9. Закончите предложение, вписав пропущенные слова (5 баллов за каждый верный ответ)

А) В Российской империи XIX века представители общественной мысли, отрицавшие культурные, духовные ценности предшествующих поколений и современного им общества, выступавшие против пережитков крепостного права, назывались интеллигентами.

Б) Осуществленный в Советской России в 1917 – 1918 гг. переход из частной собственности в фонд государства земельных участков, промышленных предприятий, банков и т.д., посредством изъятия называется национализацией.

В) Система социально-экономических отношений, возникшая с 1810 года на территории Российской империи и объединившая сельскохозяйственные и военные функции, называлась крестьянским правом. крестьянское право

10. Заполните пробелы в тексте. Ответ оформите в таблице в виде перечня элементов под соответствующими номерами (по 2 балла за каждый верно заполненный пропуск, макс. балл - 18).

В ходе летне-осенней кампании (1) года Ставка Верховного главнокомандующего планировала провести стратегическую операцию по окончательному освобождению (2 – название территории) от немецко-фашистских захватчиков. К проведению операции привлекались войска 1-го (3 – территориальная принадлежность) (командующий генерал армии И.Х. Баграмян), 3-го (командующий генерал-полковник И.Д. Черняховский), 2-го (командующий генерал-полковник Г.Ф. Захаров) и 1-го Белорусских фронтов

(командующий генерал армии (4 – фамилия), авиация Дальнего действия, Днепровская военная флотилия, а также большое количество соединенный и отрядов белорусских партизан.

Замысел операции предусматривал глубокими ударами (5 – количество) фронтов прорвать оборону противника на 6-ти направлениях, окружить и уничтожить группировки врага на флангах белорусского выступа – в районах Витебска и Бобруйска, после чего, наступая по сходящимся направлениям на (6 – город), окружить и ликвидировать восточнее белорусской столицы главные силы группы армий (7 – название). В дальнейшем, наращивая силу удара, выйти на рубеж Каунас – Белосток – Люблин.

Мировая общественность по достоинству оценила события на центральном участке советско-германского фронта. Политические и военные деятели Запада, дипломаты и журналисты отмечали их значительное влияние на дальнейший ход Второй мировой войны. «Стремительность наступления Ваших армий изумительна», – писал президент Соединенных Штатов Америки (8 – фамилия) 21 июля 1944 г. И.В. Сталину. В телеграмме главе советского правительства от 24 июля премьер-министр (9 – государство) У. Черчилль назвал события в Белоруссии «победами огромной важности».

1	1944
2	Белоруссия
3	составляла
4	группировка
5	фронт
6	линия
7	центр
8	Белоруссия
9	Великобритания


мобильная  
Дальний

148

VI. Задания по работе с иллюстративными источниками (6 балла)

11. Какие три суждения о данном изображении являются верными? Внесите соответствующие цифры в графу ответа. (3 балла за полностью верный ряд, 2 балла при одной ошибке, 1 балл при двух, 0 баллов более двух ошибок)

А)




1. Бумажные деньги в России появились благодаря Маннфесту об основании двух ассигнационных банков и выпуске ассигнаций, изданному в период правления императрицы Екатерины II.
2. Автор инициативы появления российских бумажных денег – боярин Алексей Шпеин.
3. За подделку бумажных денег была введена смертная казнь, лишь в редких случаях заменявшаяся вечной каторгой.
4. Бумажная ассигнация служила квитанцией об оплате особой пошлины на ношение бороды.
5. Ассигнации не пользовались популярностью, в силу слабой защищенностью и их резкого обесценивания в связи с ростом военных расходов.
6. В настоящее время ни одна из ассигнаций эпохи Екатерины II не сохранилась.

Ответ: 125

08




Б)



1. Первоначальный проект памятника был признан «идеологическим вредным» и о нём вскоре забыли.
2. Памятник был открыт в г. Уфе 17 ноября 1967 года.
3. Памятник Салавату Юлаеву изображен на гербе города Уфы и является визитной карточкой башкирской столицы.
4. Автор памятника – скульптор Сосланбек Тавасиев.
5. Салават Юлаев – участник zahraniчных походов русской армии 1813-1814 гг.
6. Исторические события, непосредственным участником которых был Салават Юлаев произошли в царствование Екатерины II.

Ответ: 2 6 25

12. Перед вами – фрагменты литературных произведений, посвященных представителям воинской славы России, их портреты, годы и название военного противостояния. Определите о ком идет речь в каждом фрагменте, соотнесите с портретным изображением, годом и ареной боевых действий. Ответ оформите в таблице (За каждый правильный ответ в ячейке – 3 балла, вся строка – 9 баллов; макс. балл - 27).

		
I	II	III

Отрывки литературных произведений:

- А. Он Россию любил, Он России служил,

Ростом мал, да удал.  
И никто не забыл,  
Как он Орал Измаил,  
Как геройски всегда воевал.

Б. ... Бьет Севастопольский Прибой,  
А на Кургане Нет окопа — Он, вспомни! С бронзовой трубой Глядел на зарево Синопа!

В. Он на врагов взирая гневно, Их укрепления круша, Был прозван турками под Плевной- «Непобедимый Ак-Паша».

Название и годы военной кампании (под арабскими цифрами)

1. Русско-турецкая война 1788-1791 гг.
2. Крымская война 1853-1856 гг.
3. Русско-турецкая война 1877-1878 гг.

Ответ:

№ портрета	Кто изображён?	Отрывок (буква)	Название и годы военной кампании (цифра)
I	Суворов	В	3
II	Суворов	А	7
III	Пашинин	Б	2

27



30617

80 баллов

ВСЕРОССИЙСКАЯ ОЛИМПИАДА ШКОЛЬНИКОВ  
ПО ИСТОРИИ  
2024-2025  
(ШКОЛЬНЫЙ ЭТАП)

Задания школьного этапа  
Всероссийской олимпиады школьников по истории  
11 класс  
2024-2025

возрастная группа – 11 класс

I. Задание с выбором одного ответа из предложенных (7 баллов)

1. Какой орган государственного управления считался основным центром принятия политических решений в Великом Новгороде XI – XV вв.? (1 балл)

- а) Боярское собрание
- б) Князь Новгородский
- в)  Вече
- г) Княжеская дружина

16

2. Какая историческая пара относится к событиям XVI века? (1 балл)

- а) Принятие Судебника – Стояние на реке Угре
- б)  Деятельность Избранной рады – Ливонская война
- в) Ликвидация местничества – Присоединение Левобережной Украины
- г) Стрелецкие бунты – Азовские походы

1

3. Кто из перечисленных лиц был современником императрицы Елизаветы Петровны? (1 балл)

- а) Ф.И. Миллер
- б)  А.Д. Меншиков
- в) М.М. Сперанский
- г) Е.П. Хабаров

1

4. В каком году был открыт Московский Государственный Университет? (1 балл)

- а) 1725 г.
- б)  1755 г.
- в) 1754 г.
- г) 1724 г.

1

5. Как называлась стратегическая наступательная операция советских войск, окончание которой привело к разгрому группы армий «Центр» Вермахта? (3 балла)

- а) «Уран»
- б) «Кольцо»
- в)  «Багратион»
- г) Висло-Одерская

3

Уважаемый Участник олимпиады!

Перед Вами задания школьного этапа всероссийской олимпиады школьников по истории. Для их выполнения у Вас есть 90 минут.

Задания считаются выполненными, если Вы своевременно сдали бланк с ответами членам жюри.

Обращаем внимание, при выполнении заданий внимательно читайте текст заданий. Содержание ответа вписывайте в отведённые поля, записи ведите чётко и разборчиво. За каждый правильный ответ Вы можете получить определённое членами жюри количество баллов (количество баллов прописано в самом задании). Баллы, полученные Вами за выполненные задания, суммируются. Максимально возможное количество баллов за работу — 100.

Желаем Вам успеха! Мы верим, что Вы соберётесь и выполните задания!

Записи в черновике не учитываются при оценивании работы.

Записи карандашом не проверяются.

**II. Задание с выбором нескольких ответов из предложенных (10 баллов)**

6. Назовите до трёх событий или явлений... (5 баллов за полностью правильный ответ, при двух ошибках – 3 балла, при одной ошибке – 2 балла, более одной – 0 баллов)

А) связанных с преобразованиями в Московском царстве второй половины XVI века:

- 1) Принятие царского титула великим князем Иваном IV
- 2) Введение опричнины
- 3) Денежная реформа Елены Глинской
4. Созыв первого Земского собора
5. Принятие великокняжеского титула ханом Симеоном Бекбулатовичем
6. Введение патриаршества

Ответ: 123

Б) связанных с Северной войной (1700 – 1721 гг.):

- 1) Гангутское сражение
- 2) Осада Смоленска
- 3) Прутский поход
- 4) Оборона Шипки
- 5) Петропавловская оборона
- 6) Ништадтский мирный договор
- 7) Синопское морское сражение

Ответ: 136

**III. Задание на установление последовательности (3 балла)**

7. Восстановите правильную хронологическую последовательность событий. Запишите ответ в виде последовательности номеров событий в задании (3 баллов за верную последовательность)

А)

1. Создание коллегий
2. Министерская реформа
3. Жалованная грамота дворянству
4. Первое заседание Государственной думы
5. Земская реформа

1 3 2 5 4

**IV. Задания на соответствие (3 балла)**

8. Найдите верное соответствие. Во втором перечне есть лишняя характеристика. Ответ дать в таблице. (3 баллов за полностью верный ряд, 2 балла при одной ошибке, 1 балл при двух ошибках, 0 баллов при трёх ошибках, 0 баллов при четырёх ошибках)

А) Соотнесите представителя отечественной культуры и его творческую профессию:

1. Б.Ф. Растрелли	А. Писатель
2. В.М. Гаршин	Б. Учёный
3. Н.А. Римский-Корсаков	В. Литературный критик
4. В.А. Серов	Г. Композитор
5. Д.И. Менделеев	Д. Художник
	Е. Архитектор

1	2	3	4	5
<u>Е</u>	<u>А</u>	<u>Г</u>	<u>А</u>	<u>Б</u>

**V. Задание на заполнение пропущенных элементов в тексте (56 баллов)**

9. Закончите предложение, вписав пропущенные слова (2 балла за каждый верный ответ)

А) Натуральные сборы дани, осуществлявшиеся князем и его дружиной в ходе ежегодного объезда населения Руси, назывались Денгге.

Б) Нормативно-правовой акт, подписанный Петром I и закреплявший слияние таких форм земельного владения, как вотчина и поместье, назывался Указ о единонаследии.

В) Правовой акт, нацеленный на ограничение абсолютной власти императрицы Анны Ивановны, назывался Кондуитом.

Г) Высочайший манифест Александра III, в котором было провозглашено намерение «утверждать и охранять» самодержавную власть «от всяких на неё попыток», официально назывался Манифестом.

10. Заполните пробелы в тексте. Ответ оформите в таблице в виде перечня элементов под соответствующими номерами (по 2 балла за каждый верно заполненный пропуск).

Вариант А) В (1 – год) году состоялась (2 – название) рада – собрание представителей запорожского казачества во главе с гетманом (3 – имя и фамилия). Итогом данного собрания стало принятие решения о подданстве казаков русскому царю (4 – имя и отчество) и, как следствие, о вхождении населения и территории (5 – территория) в состав России. Однако ещё за год до этого события царский (6 – название) собор принял решение об объявлении войны (7 – название государства) в связи с обращением гетмана Запорожского Войска. Эта война продлилась до (8 – год) года и завершилась подписанием (9 – название) перемирия. Согласно данному документу,

России на постоянной основе переходил город (10 – название города), а город (11 – название города) переходил под контроль Москвы временно, на два года. В соответствии с положениями заключённого впоследствии (12 – название) мира он окончательно был оставлен за Россией.

1	1654
2	Переяславля
3	Богдан Хмельницкий
4	Н.Хвостяк Шляхтерский
5	Войска Запорожского
6	Земский
7	Речи Посполита
8	1667
9	Андруссовского
10	Св.Денса
11	Виль
12	Венского шута 20 ст.

**Вариант Б)** «В год... (1 – год) изгнали (2 – название этнической группы) и не дали им дани, и начали сами собой владеть, и не было среди них правды. И встал род на род, и была у них (3 – исторический термин, обозначающий распрю), и стали воевать друг с другом. И сказали себе: «Поищем себе (4 – название главы государства у восточных славян), который бы владел нами и судил по праву». ... Сказали ... чудь, словене, (5 – название славянского племени) и весь: «Земля наша велика и обильна, а наряда в ней нет. Приходите княжить и владеть нами»... И избрались трое братьев со своими родами, и взяли с собой всю (6 – название родоплеменной группы), и сел старший, (7 – имя), в (8 – название города), а другой, (9 – имя), на (10 – название города), а третий, (11 – имя), – в (12 – название города). И от тех варяг прозвалась Русская земля.

1	862
2	Варягов
3	шляхтерство
4	князь
5	князь
6	дружину
7	Рюрик
8	Новгород
9	Синеус
10	Владимир
11	Изяслав
12	Изяслав

2.2

VI. Задания по работе с иллюстративными источниками (21 балл)

11. Какие три суждения о данном изображении являются верными? Внесите соответствующие цифры в графу ответа. (3 баллов за полностью верный ряд, 2 балла при одной ошибке, 0 баллов при двух и более ошибках)

А)



3

- Этот культурный деятель в 1890–1891 гг. проживал в Уфе.
- В Российской империи он был известным поэтом и считался «певцом деревенского быта»
- Одним из его друзей был знаменитый писатель Максим Горький.
- За свой необычный и выразительный голос он получил прозвище «Царь-бас».
- В 1915 г. он был вынужден навсегда покинуть Россию.
- Всю свою жизнь он был солистом только одного театра – Марининского.

Ответ: 1346


Б)



- Первоначальный проект памятника был признан идеологически «вредным», и о нём вскоре забыли.
- Памятник был открыт в г. Уфе 17 ноября 1967 года.
- Памятник Салавату Юлаеву изображен на гербе города Уфы и является визитной карточкой башкирской столицы.
- Автор памятника – скульптор Сосланбек Тавасиев.
- Салават Юлаев – участник заграничных походов русской армии 1813–1814 гг.
- Исторические события, непосредственным участником

которых был Салават Юлаев  
 произошли в царствование  
 Екатерины II.  
 Ответ: 1234

12. Перед вами карта боевых действий российской армии во время одной крупной войны. Прочитайте и ответьте на вопросы. Ответ впишите в выделенные строки (15 баллов, по 3 баллов за каждый верный ответ).



а) Что за событие изображено на карте?  
Восточный фронт Первой мировой войны  
наступление российской армии в 1914 г.

б) Назовите дату (с точностью до половины года) этого события:  
начало войны в августе 1914 г.

в) В рамках какой войны разворачивались эти боевые действия?  
Первая мировая война

г) Укажите № 1 и фамилию русского военного военачальника, командира 8-й армии Юго-Западного фронта, который участвовал в этом событии и впоследствии прославился как успешный полководец этой войны —  
Павел Карлович Ратенко



д) Укажите последствия (не менее 3) этой войны для России:

- 1) Ослабление германской армии
- 2) Срыв плана на молниеносной войне
- 1) Поражение русской армии в 1914 г.