

Ш И Ф Р

Не заполнять!!!

5 класс. ШЭ ВСОШ. Республика Башкортостан

**Всероссийская олимпиада школьников по географии  
2024/2025 учебного года  
Школьный этап  
Задания для 5-го класса**

<i>Теоретический тур</i>					<i>Тестовый тур (сумма)</i>	<i>ИТОГО (за все задания)</i>
Зад. 1	Зад. 2	Зад. 3	Зад. 4	Сумма		
_____ / _____						
<i>Подпись проверяющего</i>					<i>расшифровка</i>	

Перед выполнением заданий  
внимательно прочтите инструкцию:

- на выполнение всех заданий двух туров отводится **75 минут** (ориентировочно 45 минут – теоретический тур, 30 минут – тестовый тур)
- листы с ответами не подписывать
- использование любых справочных материалов (в том числе атласов), средств связи, электронных устройств **НЕ** допускается
- можно использовать линейку, транспортир, простой калькулятор
- при решении заданий и тестов выбранный Вами ответ вписываете в столбик «Ответ», при этом столбик «Балл» **НЕ** заполнять (заполняет член жюри)
- **ПРОВЕРЬТЕ!!!** Комплект заданий состоит из **6 листов**, включая титульный лист

Ш И Ф Р

Не заполнять!!!

заполняет учащийся (разборчиво)

ФИО учащегося (полностью)	_____
Общеобразовательное учреждение (полностью)	_____
Класс	_____
ФИО учителя (наставника) (полностью)	_____
Населенный пункт, район	_____

**Внимание! На обороте этого листа ничего не распечатывать!!!**

### 1. ТЕОРЕТИЧЕСКИЙ ТУР

**Задание 1.**

Определите изображенные на плане объекты. В какой стороне горизонта от центра плана (★) они расположены? Стороны горизонта записать в формате – С, Ю, СЗ, ЮВ и т.д. Чему равен масштаб плана (запишите как численный), если расстояние между объектами №1 и №5 равно 1 км 500 метров (размер плана 8x8 см).

*Ответьте на вопросы, заполнив нижеприведенную таблицу:*

		Ответы на задание: наименование объекта (1 б) и сторона горизонта (1 б)	Балл участ- ника	Мах балл
	1			2
	2			2
	3			2
	4			2
	5			2
	6			2
	7			2
Масштаб				1
Сумма баллов				15

**Задание 2.**

Известно, что на карте мира есть «цветные моря».

Из предложенного списка выберите, какого моря (каких морей) не существует?

К каким океанам относятся остальные моря? Какие из них омывают берега России?

Назовите ещё (кроме указанных «цветных») моря Тихого и Северного Ледовитого океанов, омывающие берега Российской Федерации. Если укажете в правильном порядке согласно заданию – получите дополнительные баллы.

**Список «цветных» морей:** Красное море, Белое море, Черное море, Синее море, Желтое море.

*Ответьте на вопросы, заполнив нижеприведенную таблицу:*

Вопросы	Ответы на задание	Балл	Мах балл
Не существующее (-ие) море (-я)			1
Цветные моря (из списка) и океаны, к которым они относятся			4
Цветные моря у Берегов России			2
Российские моря Тихого океана, с запада на восток			5
Российские моря Северного Ледовитого океана, с севера на юг			8
Сумма баллов			20

**Задание 3.**

Пользуясь знаниями об окружающем мире, полученными в предыдущие годы, определите ошибку в логических рядах. Обоснуйте исключение ошибочного объекта, указав, почему это ошибка, и что объединяет все остальные объекты и явления в ряду. Учтите, что все ответы должны характеризовать географические особенности объектов и явлений. Ответы занесите в таблицу.

1. тигр – панда – зубр – жираф – бурый медведь
2. Марс – Земля – Уран – Нептун – Плутон
3. снег – дождь – иней – роса – ураган
4. Волга – Амур – Кама – Енисей – Байкал
5. Африка – Азия – Австралия – Южная Америка – Европа

Ответьте на вопросы, заполнив нижеприведенную таблицу:

№	Ошибка в логическом ряду (1 б)	Обоснование исключения: что отличает ошибку (1 б),	Что объединяет остальные объекты и явления в ряду (1 б.)	Балл	Мак балл
1.					3
2.					3
3.					3
4.					3
5.					3
Сумма баллов					15

**Задание 4.**

Какие части света омывают океаны Земли?

Ответьте на вопросы используя знак «+» - омывает, знак «-» не омывает, заполнив нижеприведенную таблицу:

Часть (части) света	Северный Ледовитый	Атлантический	Индийский	Тихий	Балл	Мак балл
Африка						2
Европа						2
Австралия						2
Азия						4
Америка						3
Антарктида						3

Какие два океана омывают по пять материков Земли?

Укажите название такого океана и название материка, берега которых они не омывают.

Океан, который омывает 5 материков	Материк, берега которого он не омывает	Балл	Мак балл
			2
			2
Сумма баллов			20

## 2. ТЕСТОВЫЙ ТУР

**ВНИМАНИЕ:** в тесте есть вопросы, на которые вы должны дать **два** правильных ответа.

Вопросы	Ответ (буквы)	Балл	Мак балл
1. Кто из древнегреческих ученых в IV в. до н.э. пришел к выводу о шарообразности Земли и привел доводы в пользу этого утверждения? А) Аристотель Б) Птолемей В) Эратосфен Г) Геродот			<b>1</b>
2. Кто из европейских мореплавателей в 1488 году первым достиг мыса Доброй Надежды в Африке? А) Васко да Гама Б) Бартоломеу Диаш В) Хуан Себастьян Элькано Г) Фернан Магеллан			<b>1</b>
3. К какому архипелагу относится остров Сан-Сальвадор, ставший первым островом, которого достиг Х.Колумб во время своего первого плавания к берегам Америки? А) Малые Антильские Б) Большие Антильские В) Бермудские Г) Багамские			<b>1</b>
4. Кто из древнегреческих ученых в III-II в. до н.э. первым употребил термин «география», сумел достаточно точно рассчитать размеры Земли? А) Аристотель Б) Птолемей В) Эратосфен Г) Геродот			<b>1</b>
5. Какой материк на европейских картах XVII века назвался «Terra Australis Incognita» - Неизвестная Южная Земля? А) Африка Б) Австралия В) Антарктида Г) Южная Америка			<b>1</b>
6. Как назывались суда первой российской антарктической экспедиции, открывшей Антарктиду? А) Нева и Надежда Б) Нева и Мирный В) Восток и Надежда Г) Восток и Мирный			<b>1</b>
7. Укажите <b>две</b> правильных пары (страна-столица). А) Ирландия - Дублин Б) Бразилия – Рио-де-Жанейро В) Турция - Стамбул Г) Лаос - Вьентьян			<b>2</b>

8. Укажите <b>две</b> неправильных пары (страна – часть света). А) Египет - Африка Б) Мексика - Америка В) Монголия - Европа Г) Израиль - Европа			<b>2</b>
9. Какие из параллелей не проходят по территории материка Евразии? Укажите <b>два</b> правильных ответа. А) 0° ш. Б) 80° с.ш. В) 2° с.ш. Г) 23° с.ш.			<b>2</b>
10. Выберите <b>два</b> правильных порядка планет, начиная от Солнца. А) Меркурий, Венера, Земля, Марс Б) Марс, Венера, Нептун, Уран В) Юпитер, Сатурн, Уран, Нептун Г) Меркурий, Земля, Сатурн, Юпитер			<b>2</b>
11. Чему равен угол наклона земной оси к плоскости орбиты, по которой наша планета вращается вокруг Солнца? А) 10,5° Б) 23,5° В) 66,5° Г) 90°			<b>1</b>
12. Как называется точка на земной поверхности, где любое направление движения является северным? А) Такой точки нет Б) Северный полюс В) Южный полюс Г) Пересечение экватора с нулевым меридианом			<b>1</b>
13. В какие из указанных дней на Земле продолжительность дня равна продолжительности ночи? Укажите <b>два</b> правильных ответа. А) 20 марта Б) 22 декабря В) 22 сентября Г) 20 июня			<b>2</b>
14. Как называется самое высокое положение Солнца над горизонтом? А) тропик Б) меридиан В) экватор Г) зенит			<b>1</b>
15. Какой масштаб крупнее? А) 1:1 000 Б) 1:10 000 В) 1:100 000 Г) 1:1 000 000			<b>1</b>
16. Какие <b>две</b> , из указанных горных пород относятся по своему происхождению к органическим? А) базальт Б) мел В) гранит Г) каменный уголь			<b>2</b>

17. Какие <b>два</b> из указанных городов не располагаются на берегах реки Волги и её притоков? А) Москва Б) Санкт-Петербург В) Уфа Г) Челябинск			<b>2</b>
18. Какие <b>две</b> природные зоны не располагаются в пределах России? А) гилеи Б) арктические пустыни В) саванны Г) степи			<b>2</b>
19. Выберите <b>два</b> правильных порядка расположения материков по мере увеличения их площади. А) Антарктида, Южная Америка, Северная Америка, Евразия Б) Антарктида, Австралия, Африка, Евразия В) Австралия, Антарктида, Южная Америка, Северная Америка Г) Антарктида, Северная Америка, Южная Америка, Евразия			<b>2</b>
20. Кто из указанных мореплавателей участвовали в первой кругосветной экспедиции? Укажите <b>два</b> правильных ответа. А) Христофор Колумб Б) Хуан Себастьян Элькано В) Васко да Гама Г) Фернан Магеллан			<b>2</b>
<b>Сумма баллов</b>			<b>30</b>

Ш И Ф Р
Не заполнять!!!

**Всероссийская олимпиада школьников по географии  
2024/2025 учебного года  
Школьный этап  
Задания для 6-го класса**

<i>Теоретический тур</i>					<i>Тестовый тур (сумма)</i>	<i>ИТОГО (за все задания)</i>
Зад. 1	Зад. 2	Зад. 3	Зад. 4	Сумма		
_____ / _____						
<i>Подпись проверяющего</i>						<i>расшифровка</i>

Перед выполнением заданий  
внимательно прочтите инструкцию:

- на выполнение всех заданий двух туров отводится **75 минут** (ориентировочно 45 минут – теоретический тур, 30 минут – тестовый тур)
- листы с ответами не подписывать
- использование любых справочных материалов (в том числе атласов), средств связи, электронных устройств **НЕ** допускается
- можно использовать линейку, транспортир, простой калькулятор
- при решении заданий и тестов выбранный Вами ответ вписываете в столбик «Ответ», при этом столбик «Балл» **НЕ** заполнять (заполняет член жюри)
- **ПРОВЕРЬТЕ!!!** Комплект заданий состоит из **6 листов**, включая титульный лист

Ш И Ф Р
Не заполнять!!!

**заполняет учащийся (разборчиво)**

ФИО учащегося (полностью)	_____ _____
Общеобразовательное учреждение (полностью)	_____ _____
Класс	_____
ФИО учителя (наставника) (полностью)	_____ _____
Населенный пункт, район	_____

**Внимание! На обороте этого листа ничего не распечатывать!!!**

_____	<b>Ш И Ф Р</b>
<i>Не заполнять!!!</i>	

### 1. ТЕОРЕТИЧЕСКИЙ ТУР

**Задание 1.**

В 2024 году исполнился 251 год первого пересечения южного полярного круга, в 2025 году исполнится 130 лет первой зимовке в Антарктиде и 205 лет открытия Антарктиды.

*Ответьте на вопросы, заполнив нижеприведенную таблицу:*

Вопросы	Ответы на задание	Балл	Мах балл
Кто из мореплавателей первым пересёк южный полярный круг? Какую страну он представлял? Как назывался его корабль?			<b>3</b>
Назовите руководителей (имя, фамилия) экспедиции, открывшей Антарктиду			<b>4</b>
Как назывались корабли экспедиции, открывшей Антарктиду?			<b>2</b>
Укажите день, месяц и год открытия Антарктиды			<b>3</b>
Укажите год окончания экспедиции, открывшей Антарктиду			<b>1</b>
Назовите город-порт и море – место начала и окончания экспедиции			<b>2</b>
<b>Сумма баллов</b>			<b>15</b>

**Задание 2.**

Какие части света омывают океаны Земли?

*Ответьте на вопросы используя знак «+» - омывает, знак «-» не омывает, заполнив нижеприведенную таблицу:*

Часть (части) света	Северный Ледовитый	Атлантический	Индийский	Тихий	Балл	Мах балл
Африка						<b>2</b>
Европа						<b>2</b>
Австралия						<b>2</b>
Азия						<b>4</b>
Америка						<b>3</b>
Антарктида						<b>3</b>

Какие два океана омывают по пять материков Земли?

*Укажите название такого океана и название материка, берега которых они не омывают.*

Океан, который омывает 5 материков	Материк, берега которого он не омывает		
			<b>2</b>
			<b>2</b>
<b>Сумма баллов</b>			<b>20</b>



_____	<b>Ш И Ф Р</b>
<i>Не заполнять!!!</i>	

**Задание 3.**

*В приведённый ниже текст вставьте необходимые термины из предложенного списка.*

Литосфера — это твёрдая оболочка планеты. В её состав входит (1) и (2).

Литосфера не является монолитным слоем, покрывающим Землю. Она разбита разломами на (3).

(1) сложена (4) и горными породами. (4) — это природное тело, вещество, однородное по составу и строению. (4) находятся в недрах земли в чистом виде или в составе горных пород.

Например, горная порода гранит состоит из трёх (4): (5), (6) и (7).

(4) и горные породы по своему происхождению делятся на (8), (9) и (10).

Первые из них в свою очередь бывают (11) и (12), вторые – (13), (14) и (15).

Алмаз, графит, сера – их называют (16) элементами.

(17) (18) находятся преимущественно в кристаллических (8) и (10) породах и приурочены к фундаментам платформ и горным территориям.

Излившаяся на поверхность и освободившаяся от газов (19) называется (20).

*Список терминов:* литосферные плиты, полевой шпат, минералы, магматические, самородные, земная кора, метаморфические, магма, слюда, лава, излившиеся, осадочные, химические, верхняя часть мантии, обломочные, рудные, органические, кварц, глубинные, полезные ископаемые.

*Ответьте на вопросы, заполнив нижеприведенную таблицу:*

Вопросы	Ответы на задание	Балл	Max балл
1) и 2)			<b>2</b>
3)			<b>1</b>
4)			<b>1</b>
5), 6) и 7)			<b>3</b>
8)			<b>1</b>
9)			<b>1</b>
10)			<b>1</b>
11) и 12)			<b>2</b>
13), 14) и 15)			<b>3</b>
16)			<b>1</b>
17) и 18)			<b>2</b>
19) и 20)			<b>2</b>
<b>Сумма баллов</b>			<b>20</b>

**Задание 4.**

Определите изображенные на плане объекты. В какой стороне горизонта от центра плана (★) они расположены? Стороны горизонта записать в формате – С, Ю, СЗ, ЮВ и т.д. Чему равен масштаб плана (запишите как численный), если расстояние между объектами №1 и №5 равно 1 км 500 метров (размер плана 8x8 см).

Ответьте на вопросы, заполнив нижеприведенную таблицу:

		Ответы на задание: наименование объекта (1 б) и сторона горизонта (1 б)	Балл участ- ника	Мах балл
	1			2
	2			2
	3			2
	4			2
	5			2
	6			2
	7			2
Масштаб				1
Сумма баллов				15

**2. ТЕСТОВЫЙ ТУР**

**ВНИМАНИЕ:** в тесте есть вопросы, на которые нужно дать два, три правильных ответа.

Вопросы	Ответ (буквы)	Балл	Мах балл
1. Относительная высота показывает превышение точки земной поверхности: А) над уровнем Балтийского моря Б) над другой точкой поверхности В) над уровнем Гринвичской обсерватории Г) над уровнем Каспийского моря			1
2. Отметка высоты вершины холма на плане местности равна 244,5 м. Холм изображен на плане 5 (пятью) горизонталями. Высота сечения горизонталей 5 метров. Чему равна относительная высота холма? А) 19,5 м Б) 24,5 м В) 29,5 м Г) 244,5 м			1
3. Изолинии – это линии, соединяющие на карте точки с одинаковой (укажите <u>три</u> правильных ответа): А) соленостью воды в океане Б) абсолютной высотой В) плотностью населения Г) относительной высотой			3

4. Кем и когда был создан первый сохранившийся глобус? А) Герардом Меркатором в 1562 году Б) Эратосфеном в III в. до н.э. В) Фернаном Магелланом в 1519 году Г) Марином Бехаймом в 1492 году			<b>1</b>
5. Кто из ученых первым употребил слово «Атлас» и в 1554 году издал первый «Атлас Европы» на 15 листах? А) Герард Меркатор Б) Джордано Бруно В) Николай Коперник Г) Мартин Бехайм			<b>1</b>
6. Какой из указанных масштабов более крупный? А) 1:3 000 000 Б) 1:5 000 000 В) 1:7 000 000 Г) 1:6 000 000			<b>1</b>
7. Какое направление на карте России в атласе имеют параллели? А) север - юг Б) северо-запад – северо-восток В) запад - восток Г) юго-запад – юго-восток			<b>1</b>
8. Как называется параллель, имеющая широту 23,5°? (укажите <b>два</b> варианта ответа) А) северный полярный круг Б) южный тропик В) южный полярный круг Г) северный тропик			<b>2</b>
9. Укажите <b>две</b> верные пары (страна-столица) А) США – Нью-Йорк Б) Бразилия – Рио-де-Жанейро В) Турция - Анкара Г) Лаос - Вьентьян			<b>2</b>
10. Какие из указанных географических координат соответствуют положению города Санкт-Петербург? (укажите <b>два</b> варианта ответа). А) 30° в.д. Б) 60° с.ш. В) 60° в.д. Г) 30° с.ш.,			<b>2</b>
11. Какие из параллелей не проходят по территории материка Евразии? (укажите <b>два</b> варианта ответа). А) 10° с.ш. Б) 80° с.ш. В) 2° с.ш. Г) 3° ю.ш.			<b>2</b>
12. Чему равна долгота меридиана, который проходит через обсерваторию в городе Лондоне? (Укажите <b>три</b> не правильных ответа) А) 0° в.д. Б) 0° д. В) 180° д. Г) 0° з.д.			<b>3</b>

13. К какой группе относится карта, имеющая масштаб 1:300 000? А) крупномасштабные Б) среднемасштабные В) мелкомасштабные Г) нет правильного ответа			<b>1</b>
14. Как называется совокупность всех людей, живущих на определенной территории? А) раса Б) этнос В) народ Г) население			<b>1</b>
15. В какой из указанных стран плотность населения выше? А) Египет Б) Китай В) Россия Г) Бангладеш			<b>1</b>
16. В какой из частей земного шара температура выше? А) в ядре Б) в мантии В) в земной коре Г) в литосфере			<b>1</b>
17. Как называется расплавленное вещество, поднимающееся по разломам земной коры? И как оно называется при выходе на поверхность Земли? (Укажите <b>два</b> варианта ответа). А) мантия Б) магма В) лава Г) вулканическое стекло			<b>2</b>
18. К какой группе горных пород по происхождению относится мел? А) осадочные химические Б) метаморфические В) осадочные органические Г) осадочные обломочные			<b>1</b>
19. Как называются равнины, имеющие абсолютную высоту более 500 метров? Как называются равнины, имеющие абсолютную высоту менее 200 метров? (Укажите <b>два</b> варианта ответа). А) низменности Б) возвышенности В) плоскогорья Г) низкогорья			<b>2</b>
20. Как называются горы, имеющие абсолютную высоту более 2000 метров? А) низкие Б) средние В) высокие Г) высочайшие			<b>1</b>
		<b>Сумма баллов</b>	<b>30</b>

Ш И Ф Р

Не заполнять!!!

7 класс. ШЭ ВСОШ. Республика Башкортостан

## Всероссийская олимпиада школьников по географии

2024/2025 учебного года

Школьный этап

Задания для 7-го класса

Теоретический тур					Тестовый тур (сумма)	ИТОГО (за все задания)
Зад. 1	Зад. 2	Зад. 3	Зад. 4	Сумма		
_____ / _____						
Подпись проверяющего					расшифровка	

Перед выполнением заданий

внимательно прочтите инструкцию:

- на выполнение всех заданий двух туров отводится **90 минут** (ориентировочно 60 минут – теоретический тур, 30 минут – тестовый тур)
- листы с ответами не подписывать
- использование любых справочных материалов (в том числе атласов), средств связи, электронных устройств **НЕ** допускается
- можно использовать линейку, транспортир, простой калькулятор
- при решении заданий и тестов выбранный Вами ответ вписываете в столбик «Ответ», при этом столбик «Балл» **НЕ** заполнять (заполняет член жюри)
- **ПРОВЕРЬТЕ!!!** Комплект заданий состоит из **7 листов**, включая титульный лист

Ш И Ф Р

Не заполнять!!!

заполняет учащийся (разборчиво)

ФИО учащегося (полностью)	_____ _____
Общеобразовательное учреждение (полностью)	_____ _____
Класс	_____
ФИО учителя (наставника) (полностью)	_____ _____
Населенный пункт, район	_____

**Внимание! На обороте этого листа ничего не распечатывать!!!**

## 1. ТЕОРЕТИЧЕСКИЙ ТУР

### Задание 1.

Долгое время в различных странах для отсчёта географической долготы использовали свои собственные национальные нулевые меридианы, проходящие, как правило, через центральные обсерватории этих стран.

*Ответьте на вопросы, заполнив нижеприведенную таблицу:*

<i>Вопросы</i>	<i>Ответы на задание</i>	<i>Балл</i>	<i>Мак балл</i>
<i>В каком веке Гринвичский меридиан стал официально международным нулевым меридианом?</i>			<b>1</b>
<i>Как назывался меридиан, использовавшийся в качестве начального в России до введения Гринвичского меридиана?</i>			<b>1</b>
<i>Чему равна его долгота по отношению к Гринвичскому (с точностью до 1°)</i>			<b>3</b>
<i>Через какие части света он проходит?</i>			<b>4</b>
<i>Какой меридиан использовал в качестве нулевого Герард Меркатор?</i>			<b>1</b>
<i>Через какие острова он проходит?</i>			<b>1</b>
<i>Какой стране они принадлежат?</i>			<b>1</b>
<i>Чему равна его долгота по отношению к Гринвичскому меридиану?</i>			<b>3</b>
<b>Сумма баллов</b>			<b>15</b>

### Задание 2.

По отрывкам из географической характеристики определите материк и заполните пропуски в тексте подходящими по смыслу географическими названиями и терминами.

«С запада материк омывается водами (1) океана, а с востока – (2). С соседней частью света, (3), материк соединяет (4) перешеек, сейчас через него проходит судоходный канал. На севере материка расположена пустыня (5), а на востоке – крупное (6) плоскогорье. Крупнейшей горной системой является (7), а большая часть материка расположена на древней платформе, которая в древности была частью южного суперматерика (8). Самая полноводная река – (9) обладает и самой большой на материке площадью (10), её течение достаточно бурное, много порогов и водопадов. Самыми известными из них являются каскады водопадов (11) в среднем течении и (12) в нижнем течении, названные в честь известных путешественников. На юго-западе материка расположены приокеаническая пустыня (13) и пустыня (14), на территории которой находится самая большая в мире дельта никуда не впадающей реки (15)».

*Ответьте на вопросы, заполнив нижеприведенную таблицу:*

**Внимание! Ответы с орфографическими ошибками не засчитываются.**

Вопросы	Ответы	Балл	Мак балл
<i>МАТЕРИК</i>			<b>1</b>
<i>1,2 - океаны</i>			<b>2</b>
<i>3,4 – часть света, перешеек</i>			<b>2</b>
<i>5, 6 – пустыня, плоскогорье</i>			<b>2</b>
<i>7,8 – горная система, суперматерик</i>			<b>2</b>
<i>9,10 – река, площадь</i>			<b>2</b>
<i>11, 12 - водопады</i>			<b>2</b>
<i>13, 14 - пустыни</i>			<b>2</b>
<i>15 - река</i>			<b>1</b>
<i>Крайняя северная точка материка, её широта</i>			<b>2</b>
<i>Крайняя южная точка материка, её широта</i>			<b>2</b>
<b>Сумма баллов</b>			<b>20</b>

**Задание 3.**

Пользуясь знаниями по географии, полученными в предыдущие годы, определите ошибку в логических рядах географических объектов мира. Обоснуйте исключение ошибочного объекта, указав, почему это ошибка, и что объединяет все остальные объекты и явления в ряду. Учтите, что все ответы должны характеризовать географические особенности объектов и явлений. Ответы занесите в таблицу.

1. Косцюшко – Килиманджаро – Белуха – Аконкагуа - Денали
2. Черное – Белое – Красное – Азовское – Коралловое
3. залив – пролив – бухта – атолл – эстуарий
4. мистраль – бора – хамсин – бриз – пассат
5. Африка – Азия – Австралия – Южная Америка – Европа

Ответьте на вопросы, заполнив нижеприведенную таблицу:

№	Ошибка в логическом ряду (1 б)	Обоснование исключения: что отличает ошибку (1 б),	Что объединяет остальные объекты и явления в ряду (1 б.)	Балл	Мак балл
1.					<b>3</b>
2.					<b>3</b>
3.					<b>3</b>
4.					<b>3</b>
5.					<b>3</b>

<b>Ш И Ф Р</b> <hr/> Не заполнять!!!
---

Сумма баллов	<b>15</b>
--------------	-----------

**Задание 4.**

Представьте себе лист топографической карты с номенклатурой А-31-12-Б-б. Географические координаты северо-восточного угла рамки карты 4°с.ш., 6°в.д.

*Ответьте на вопросы, заполнив нижеприведенную таблицу:*

Вопросы	Ответы на задание	Балл	Мак балл
<i>Масштаб численный и именованный</i>			<b>2</b>
<i>Величина масштаба</i>			<b>1</b>
<i>Предельная точность масштаба</i>			<b>1</b>
<i>Чему равна протяженность в километрах 1 минуты по меридиану</i>			<b>1</b>
<i>Чему равен градусный размер листа карты ____° х ____°</i>			<b>2</b>
<i>Географические координаты юго-западного угла рамки карты</i>			<b>5</b>
<i>Как выглядит номенклатура листа карты, расположенного к западу от листа, указанного в условиях задания</i>			<b>5</b>
<i>Как называется картографическая проекция, используемая для создания топографических карт</i>			<b>1</b>
<i>К какому классу относится указанная проекция по виду поверхности проектирования</i>			<b>2</b>
<b>Сумма баллов</b>			<b>20</b>



_____	<b>Ш И Ф Р</b>
<i>Не заполнять!!!</i>	

## 2. ТЕСТОВЫЙ ТУР

**ВНИМАНИЕ:** в тесте есть вопросы, на которые нужно дать два, три правильных ответа.

Тесты	Ответ (буквы)	Балл	Мак балл
<p>1. Какое из названных землетрясений считается самым сильным из всех, которые когда-либо происходили на планете.</p> <p>А) Спитакское 1988 года  Б) Аляскинское 1964 года  В) Чилийское 1960 года  Г) Японское 2011 года</p>			<b>1</b>
<p>2. Какую абсолютную высоту имеют низкие горы?</p> <p>А) до 1000 метров  Б) от 1000 до 2000 метров  В) от 2000 до 5000 метров  Г) больше 5000 метров</p>			<b>1</b>
<p>3. Какие формы рельефа обязаны своему происхождению ветровым процессам? Выберите <u>два</u> ответа.</p> <p>А) барханы  Б) дюны  В) овраги  Г) каньоны</p>			<b>2</b>
<p>4. Какие <u>две</u> из названных равнин России имеют обций (преобладающий) уклон поверхности в сторону Северного Ледовитого океана?</p> <p>А) Среднесибирское плоскогорье  Б) Прикаспийская низменность  В) Западно-Сибирская  Г) Восточно-Европейская</p>			<b>2</b>
<p>5. Какие из названных форм рельефа относятся к равнинам? (укажите <u>три</u> правильных ответа).</p> <p>А) возвышенности  Б) плоскогорья  В) нагорье  Г) низменности</p>			<b>3</b>
<p>6. Перепад высот на равнинах не превышает:</p> <p>А) 100 метров  Б) 200 метров  В) 500 метров  Г) 1000 метров</p>			<b>1</b>
<p>7. Как называется процесс изменения и разрушения минералов и горных пород на суше под воздействием внешних факторов?</p> <p>А) выветривание  Б) эрозия  В) коррозия  Г) диффузия</p>			<b>1</b>
<p>8. Важнейшими свойствами воды являются (выберите <u>два</u> правильных ответа):</p> <p>А) быстро нагреваться и быстро остывать  Б) медленно нагреваться и медленно остывать  В) увеличиваться в объеме при замерзании  Г) уменьшаться в объеме при замерзании</p>			<b>2</b>

9. Выберите из предложенных списков <u>два</u> , в которых перечислены только внутренние моря. А) Северное, Балтийское, Карское Б) Мраморное, Средиземное, Белое В) Азовское, Красное, Черное Г) Каспийское, Азовское, Желтое			2
10. Выберите из списка <u>два</u> наименования вулканических островов. А) Гавайские Б) Мальдивские В) Канарские Г) Тасмания			2
11. Как называется мелководная окраина материков с глубинами обычно до 200 метров? А) ложе Б) склон В) шельф Г) подножие			1
12. Чему равно значение солёности воды (в промилле), содержащей 3,5 грамма солей на 1 литр воды? А) 0,35‰ Б) 3,5‰ В) 35‰ Г) 350‰			1
13. Какой из океанов имеет самую низкую среднюю солёность воды? А) Тихий Б) Индийский В) Атлантический Г) Северный Ледовитый			1
14. Какой масштаб мельче? А) 1:1 000 Б) 1:10 000 В) 1:100 000 Г) 1:1 000 000			1
15. Какие <u>два</u> из указанных морских течений холодные? А) Аляскинское Б) Перуанское В) Северо-Атлантическое Г) Сомалийское			2
16. Как называется кратковременный подъем уровня воды в реке в результате обильных дождей, зимней оттепели или таяния ледников в горах? А) паводок Б) половодье В) режим Г) межень			1
17. Какие, из названных озер бессточные? (укажите <u>три</u> правильных ответа) А) Каспийское Б) Мертвое В) Аральское Г) Байкал			3

18. Какой газ в атмосфере занимает наибольший объем? А) азот Б) кислород В) озон Г) углекислый газ			<b>1</b>
19. Чему равна амплитуда температуры воздуха, если максимальная составила $+15^{\circ}\text{C}$ , а минимальная была равна <b>минус</b> $5^{\circ}\text{C}$ ? А) $20^{\circ}\text{C}$ Б) $10^{\circ}\text{C}$ В) $5^{\circ}\text{C}$ Г) $0^{\circ}\text{C}$			<b>1</b>
20. Как называется ветер, меняющий направление два раза в год? А) муссон Б) пассат В) бриз Г) фён (фен)			<b>1</b>
	<b>Сумма баллов</b>		<b>30</b>

Ш И Ф Р

Не заполнять!!!

8 класс. ШЭ ВСОШ. Республика Башкортостан

## Всероссийская олимпиада школьников по географии

2024/2025 учебного года

Школьный этап

Задания для 8-го класса

Теоретический тур					Тестовый тур (сумма)	ИТОГО (за все задания)
Зад. 1	Зад. 2	Зад. 3	Зад. 4	Сумма		
_____ / _____						
Подпись проверяющего					расшифровка	

Перед выполнением заданий

внимательно прочтите инструкцию:

- на выполнение всех заданий двух туров отводится **90 минут** (ориентировочно 60 минут – теоретический тур, 30 минут – тестовый тур)
- листы с ответами не подписывать
- использование любых справочных материалов (в том числе атласов), средств связи, электронных устройств НЕ допускается
- можно использовать линейку, транспортир, простой калькулятор
- при решении заданий и тестов выбранный Вами ответ вписываете в столбик «Ответ», при этом столбик «Балл» НЕ заполнять (заполняет член жюри)
- **ПРОВЕРЬТЕ!!!** Комплект заданий состоит из **7 листов**, включая титульный лист

Ш И Ф Р

Не заполнять!!!

заполняет учащийся (разборчиво)

ФИО учащегося (полностью)	_____ _____
Общеобразовательное учреждение (полностью)	_____ _____
Класс	_____
ФИО учителя (наставника) (полностью)	_____ _____
Населенный пункт, район	_____

**Внимание! На обороте этого листа ничего не распечатывать!!!**

**1. ТЕОРЕТИЧЕСКИЙ ТУР****Задание 1.**

Долгое время в различных странах для отсчёта географической долготы использовали свои собственные национальные нулевые меридианы, проходящие, как правило, через центральные обсерватории этих стран.

Ответьте на вопросы, заполнив нижеприведенную таблицу:

Вопросы	Ответы на задание	Балл	Мак балл
<i>В каком веке Гринвичский меридиан стал официально международным нулевым меридианом?</i>			<b>1</b>
<i>Как назывался меридиан, использовавшийся в качестве начального в России до введения Гринвичского меридиана?</i>			<b>1</b>
<i>Чему равна его долгота по отношению к Гринвичскому (с точностью до 1°)</i>			<b>1</b>
<i>Через какие части света он проходит?</i>			<b>2</b>
<i>Через какие океаны он проходит? (без учета Южного)</i>			<b>3</b>
<i>Какой меридиан использовал в качестве нулевого Герард Меркатор?</i>			<b>1</b>
<i>Через какие острова он проходит?</i>			<b>1</b>
<i>Какой стране они принадлежат?</i>			<b>1</b>
<i>Чему равна его долгота по отношению к Гринвичскому меридиану?</i>			<b>2</b>
<i>Как назывался меридиан, использовавшийся в качестве начального во Франции до введения Гринвичского меридиана?</i>			<b>1</b>
<i>Чему равна его долгота по отношению к Гринвичскому меридиану (с точностью до 1°)</i>			<b>1</b>
<b>Сумма баллов</b>			<b>15</b>

**Задание 2.**

Залив в третьем по величине океане Земли омывает берега первого и седьмого по численности населения государств мира. В одном из них расположена крупнейшая дельта земного шара, образованная двумя крупными реками. В дельте сформировался крупнейший лес из прибрежных зарослей, являющийся объектом Всемирного наследия ЮНЕСКО. В прибрежных болотах обитает и крупнейший в мире крокодил, который способен жить в солёной воде.

Залив также омывает берега островного государства, которое, как и остров, раньше носило другое название. Эта страна знаменита тонизирующей культурой, которую здесь выращивают и продают по всему миру. На востоке залив омывает побережье страны, которая до 1989 года носила другое название. В 2005 году в стране произошел перенос столицы.

От соседнего моря залив отделён двумя архипелагами.

Ответьте на вопросы, заполнив нижеприведенную таблицу:

**Внимание! Ответы с орфографическими ошибками не засчитываются.**

Вопросы	Ответы на задание	Балл	Мак балл
ЗАЛИВ			<b>1</b>
Название указанных государств по численности населения и их столиц			<b>4</b>
Две реки, образующие дельту			<b>2</b>
Название леса в дельте			<b>1</b>
Вид крокодила			<b>1</b>
Островное государство, его прежнее название, название столицы, тонизирующая культура			<b>4</b>
Государство на востоке залива и его прежнее название.			<b>2</b>
Столицы государства на востоке залива до и после 2005 года			<b>2</b>
Море и архипелаги, отделяющие это море от описанного залива			<b>3</b>
<b>Сумма баллов</b>			<b>20</b>

**Задание 3.**

По отрывкам из географической характеристики определите материк и заполните пропуски в тексте подходящими по смыслу географическими названиями и терминами.

«С запада материк омывается водами (1) океана, а с востока – (2). С соседней частью света, (3), материк соединяет (4) перешеек, сейчас через него проходит судоходный канал. На севере материка расположена пустыня (5), а на востоке – крупное (6) плоскогорье. Крупнейшей горной системой является (7), а большая часть материка расположена на древней платформе, которая в древности была частью южного суперматерика (8). Самая полноводная река – (9) обладает и самой большой на материке площадью (10), её течение достаточно бурное, много порогов и водопадов. Самыми известными из них являются каскады водопадов (11) в среднем течении и (12) в нижнем течении, названные в честь известных путешественников. На юго-западе материка расположены приокеаническая пустыня (13) и пустыня (14), на территории которой находится самая большая в мире дельта никуда не впадающей реки (15)».

_____	<b>Ш И Ф Р</b>
<i>Не заполнять!!!</i>	

Ответьте на вопросы, заполнив нижеприведенную таблицу:

**Внимание! Ответы с орфографическими ошибками не засчитываются.**

Вопросы	Ответы	Балл	Мак балл
<i>МАТЕРИК</i>			<b>1</b>
<i>1,2 - океаны</i>			<b>2</b>
<i>3,4 – часть света, перешеек</i>			<b>2</b>
<i>5, 6 – пустыня, плоскогорье</i>			<b>2</b>
<i>7,8 – горная система, суперматерик</i>			<b>2</b>
<i>9,10 – река, площадь</i>			<b>2</b>
<i>11, 12 - водопады</i>			<b>2</b>
<i>13, 14 - пустыни</i>			<b>2</b>
<i>15 - река</i>			<b>1</b>
<i>Крайняя северная точка материка, её широта</i>			<b>2</b>
<i>Крайняя южная точка материка, её широта</i>			<b>2</b>
<b>Сумма баллов</b>			<b>20</b>

**Задание 4.**

Представьте себе лист топографической карты с номенклатурой А-31-12-Б-б. Географические координаты северо-восточного угла рамки карты 4°с.ш., 6°в.д.

Ответьте на вопросы, заполнив нижеприведенную таблицу:


Вопросы	Ответы на задание	Балл	Мак балл
<i>Масштаб численный и именованный</i>			<b>2</b>
<i>Величина масштаба</i>			<b>1</b>
<i>Предельная точность масштаба</i>			<b>1</b>
<i>Чему равна протяженность в километрах 1 минуты по меридиану</i>			<b>1</b>
<i>Чему равен градусный размер листа карты ____° х ____°</i>			<b>2</b>

Ш И Ф Р <hr/> Не заполнять!!!
----------------------------------

Вопросы	Ответы на задание	Балл	Мах балл
<i>Географические координаты юго-западного угла рамки карты</i>			<b>3</b>
<i>Как выглядит номенклатура листа карты, расположенного к западу от листа, указанного в условиях задания</i>			<b>3</b>
<i>Как называется картографическая проекция, используемая для создания топографических карт</i>			<b>1</b>
<i>К какому классу относится указанная проекция по виду поверхности проектирования</i>			<b>1</b>
<b>Сумма баллов</b>			<b>15</b>

### ТЕСТОВЫЙ ТУР

**ВНИМАНИЕ:** в тесте есть вопросы, на которые нужно дать два, три правильных ответа.

Тесты	Ответ (буквы)	Балл	Мах балл
1. Как называется проекция, где меридианы и параллели на карте имеют следующий вид? А) азимутальная Б) коническая В) цилиндрическая Г) поликоническая <div style="text-align: center;">  </div>			<b>1</b>
2. Как называются линии, соединяющие на карте точки с одинаковым атмосферным давлением? А) изогипсы Б) изобаты В) изобары Г) изотермы			<b>1</b>
3. Как называется самая большая по численности населения страна мира? А) Индонезия Б) Китай В) Бразилия Г) Индия			<b>1</b>
4. Чему равна средняя плотность населения Земли (чел./ кв. км)? А) менее 30 Б) от 30 до 40 В) от 40 до 50 Г) более 50			<b>1</b>



5. Выберите из списка <b>три</b> языка, которые относятся к официальным международным языкам? А) немецкий Б) русский В) арабский Г) испанский			<b>3</b>
6. Какие <b>два</b> списка расположения стран в порядке уменьшения их площади территории правильные? А) Бразилия, Австралия, Индия Б) Россия, Китай, Канада В) Россия, США, Канада Г) Россия, Китай, США			<b>2</b>
7. В каком списке эры в истории Земли расположены в порядке увеличения их возраста? А) мезозойская, кайнозойская, протерозойская Б) кайнозойская, палеозойская, мезозойская В) мезозойская, палеозойская, протерозойская Г) палеозойская, архейская, кайнозойская			<b>1</b>
8. Как называются выходы кристаллического фундамента на поверхность платформ? А) плиты Б) щиты В) фундамент Г) складки			<b>1</b>
9. Как называется пояс освещенности Земли, расположенный между северным полярным кругом и северным тропиком? А) тропический Б) полярный В) умеренный Г) жаркий			<b>1</b>
10. Выберите из списка самые сухие и самые влажные воздушные массы ( <b>два</b> правильных ответа). А) тропические Б) экваториальные В) арктические Г) умеренные			<b>2</b>
11. В каких списках периоды в истории Земли расположены в порядке увеличения их возраста ( <b>два</b> правильных ответа)? А) девонский, силурийский, пермский Б) меловой, каменноугольный, ордовикский В) триасовый, юрский, кембрийский Г) палеогеновый, меловой, пермский			<b>2</b>
12. У каких <b>двух</b> типов воздушных масс не выделяют морские и континентальные массы? А) экваториальные Б) тропические В) умеренные Г) арктические			<b>2</b>

13. Какие ветры не относятся к постоянным ветрам общей циркуляции атмосферы? ( <u>два</u> правильных ответа). А) пассаты Б) восточные В) бризы Г) муссоны			<b>2</b>
14. Как называется главный климатообразующий фактор? А) географическая долгота Б) удаленность от морей и океанов В) рельеф Г) географическая широта			<b>1</b>
15. Какой климатический пояс занимает большую часть материков Северная Америка и Евразия и практически отсутствует на материках южного полушария? А) субэкваториальный Б) тропический В) умеренный Г) субтропический			<b>1</b>
16. Самая протяженная сухопутная граница у России: А) с Китаем Б) с Монголией В) с Казахстаном Г) Белоруссией			<b>1</b>
17. Какие <u>два</u> автономных округа вошли в состав Красноярского края в 2007? А) Агинский Бурятский Б) Таймырский (Долгано-Ненецкий) В) Усть-Ордынский Бурятский Г) Эвенкийский			<b>2</b>
18. Какое государство стало первым, официально выступившим союзником Советского Союза в Великой Отечественной войне 1941-1945 гг.? В 1944 году оно вошло в состав СССР на правах автономной области. А) Хакасия Б) Бурятия В) Тыва (Тува) Г) Монголия			<b>1</b>
19. Какие <u>две</u> природные зоны не располагаются в пределах России? А) гилей Б) арктические пустыни В) саванны Г) степи			<b>2</b>
20. Кто из указанных мореплавателей участвовали в первой кругосветной экспедиции? Укажите <u>два</u> правильных ответа. А) Христофор Колумб Б) Хуан Себастьян Элькано В) Васко да Гама Г) Фернан Магеллан			<b>2</b>
<b>Сумма баллов</b>			<b>30</b>

Ш И Ф Р
_____
<i>Не заполнять!!!</i>

**Всероссийская олимпиада школьников по географии  
2024/2025 учебного года  
Школьный этап  
Задания для 9-го класса**

<i>Теоретический тур</i>					<i>Тестовый тур</i>	<i>ИТОГО</i>
Зад. 1	Зад. 2	Зад. 3	Зад. 4	Сумма	<i>(сумма)</i>	<i>(за все задания)</i>
_____ / _____					_____	
<i>Подпись проверяющего</i>					<i>расшифровка</i>	

Перед выполнением заданий  
внимательно прочтите инструкцию:

- на выполнение всех заданий двух туров отводится **135 минут** (ориентировочно 90 минут – теоретический тур, 45 минут – тестовый тур)
- листы с ответами не подписывать
- использование любых справочных материалов (в том числе атласов), средств связи, электронных устройств **НЕ** допускается
- можно использовать линейку, транспортир, простой калькулятор
- при решении заданий и тестов выбранный Вами ответ вписываете в столбик «Ответ», при этом столбик «Балл» **НЕ** заполнять (заполняет член жюри)
- **ПРОВЕРЬТЕ!!!** Комплект заданий состоит из **7 листов**, включая титульный лист

Ш И Ф Р
_____
<i>Не заполнять!!!</i>

**заполняет учащийся (разборчиво)**

ФИО учащегося (полностью)	_____ _____
Общеобразовательное учреждение (полностью)	_____ _____
Класс	_____
ФИО учителя (наставника) (полностью)	_____ _____
Населенный пункт, район	_____

**Внимание! На обороте этого листа ничего не распечатывать!!!**

<div style="display: flex; justify-content: space-between; align-items: center;"> <div style="border-bottom: 1px solid black; width: 60%;"></div> <div style="font-weight: bold; font-size: 1.2em;">Ш И Ф Р</div> </div> <p style="margin-top: 5px;">Не заполнять!!!</p>
--

## 1. ТЕОРЕТИЧЕСКИЙ ТУР

### Задание 1.

В РЖД существует практика создания фирменных поездов. Фирменный поезд предлагает высококласный сервис и широкий перечень услуг, а также более удобное расписание движения.

Фирменные поезда (чаще всего) направляются в Москву и Санкт-Петербург из административных центров субъектов РФ. Из указанных в списке поездов, у 13 (тринадцатьми) конечная станция назначения Москва, у 2 (двух) – Санкт-Петербург. Три поезда из перечисленных отправляются не из административных центров субъектов РФ.

Используя предложенный список городов, установите названия пунктов отправления перечисленных фирменных поездов. Определите (подчеркните, обведите) **три** пункта отправления, которые не являются административными центрами субъектов РФ. Укажите пункты назначения поездов.

**Список городов:** Астрахань, Владивосток, Вологда, Ижевск, Лабитнанги, Калининград, Кисловодск, Киров, Мурманск, Новый Уренгой, Нижний Новгород, Пенза, Ростов-на-Дону, Самара, Челябинск.

Ответьте на вопросы, заполнив нижеприведенную таблицу:


Фирменный поезд	Пункт отправления (1 балл за каждый)	Пункт назначения	Балл	Мак балл
«Арктика»				1
«Белые ночи»				1
«Волга»				1
«Вятка»				1
«Жигули»				1
«Италмас»				1
«Кавказ				1
«Лотос»				1
«Полярная стрела»				1
«Россия»				1
«Сура»				1
«Тихий Дон»				1
«Южный Урал»				1
«Ямал»				1
«Янтарь»				1
<b>Сумма баллов</b>				<b>20*</b>

\*еще 3 балла за правильное выделение (подчеркивание) в таблице ответов пунктов отправления, которые не являются административными центрами субъектов РФ, и 2 балла за правильное указание в таблице пунктом назначения города Санкт-Петербург (при указании пунктом назначения Санкт-Петербург более 2-х раз эти баллы не начисляются совсем).

Не заполнять!!!

**Задание 2.** На фотографиях представлены самые известные небоскребы мира.

Ответьте на вопросы, заполнив нижеприведенную таблицу:



Вопросы	Название небоскреба (1 б.)	Страна (1 б.)	Город (1 б.)	Балл	Мак балл
№1					3
№2					3
№3					3
№4					3
Какой из них самый высокий? Чему равна его высота?					2
Чему равна высота небоскреба №4?					1
Сумма					15

### Задание 3.

Это одна из крупнейших стран в мире, как по площади территории, так и по численности населения. Страна занимает почти половину площади материка, не имеет границы лишь с двумя государствами континента, её пересекает самая длинная параллель. Одновременно она выходит широким фронтом на побережье океана, по её территории протекает самая полноводная и самая длинная река планеты. На пограничной реке, недалеко от знаменитого водопада функционирует одна из крупнейших в мире ГЭС. Страна входит в экономическое объединение, участником которого является и Россия. Страна является мировым лидером по сбору сахароносной, тонизирующей и цитрусовой культур. В стране 14 городов-миллионников, особо выделяются два крупнейших. Один из них славится карнавалами и одним из крупнейших в мире футбольным стадионам. Это город социальных контрастов, знаменитый своими трущобами. Другой город – крупнейший в стране, её экономическая столица, его образно называют «Нью-Йорком» региона.

Ответьте на вопросы, заполнив нижеприведенную таблицу:

Вопросы	Ответы	Балл	Мак балл
НАЗВАНИЕ ГОСУДАРСТВА			1
Место страны в мировых рейтингах: А) по площади территории; Б) по численности населения;			2
Название материка			1
Две государства материка, с которыми нет общей границы			2
Самая длинная параллель			1
Название реки			1
Названия реки, водопада и ГЭС			6
Экономическое объединение			2
Два крупнейших города			2
Кварталы трущоб			1
Столица			1
		<b>Сумма баллов</b>	<b>20</b>

#### Задание 4.

Представьте себе лист топографической карты с номенклатурой А-31-12-Б-б. Географические координаты северо-восточного угла рамки карты 4°с.ш., 6°в.д.

Ответьте на вопросы, заполнив нижеприведенную таблицу:


Вопросы	Ответы на задание	Балл	Мак балл
Масштаб численный и именованный			2
Величина масштаба			1
Предельная точность масштаба			1
Чему равна протяженность в километрах 1 минуты по меридиану			1
Чему равен градусный размер листа карты ____° х ____°			2

Ш И Ф Р <hr/> Не заполнять!!!
----------------------------------

Вопросы	Ответы на задание	Балл	Мах балл
Географические координаты юго-западного угла рамки карты			3
Как выглядит номенклатура листа карты, расположенного к западу от листа, указанного в условиях задания			3
Как называется картографическая проекция, используемая для создания топографических карт			1
К какому классу относится указанная проекция по виду поверхности проектирования			1
<b>Сумма баллов</b>			<b>15</b>

## 2. ТЕСТОВЫЙ ТУР

**ВНИМАНИЕ:** в тесте есть вопросы, на которые нужно дать два правильных ответа.

Тесты	Ответ (буквы)	Балл	Мах балл
1. Как называется проекция, где меридианы и параллели на карте имеют следующий вид? А) азимутальная Б) коническая В) цилиндрическая Г) поликоническая			1
2. Во сколько оценивалась численность населения России после вхождения новых территорий в конце 2022 года? А) 142 млн. человек Б) 145 млн. человек В) 147 млн. человек Г) 152 млн. человек			1
3. Какие <u>две</u> из названных стран, по оценкам ООН, превосходят Россию по численности населения? А) Нигерия Б) Япония В) Бангладеш Г) Вьетнам			2
4. Выберите из списка <u>два</u> языка, которые относятся к официальным международным языкам. А) немецкий Б) русский В) арабский Г) португальский			2

5. Какие <u>два</u> списка расположения стран в порядке увеличения их площади территории правильные? А) США, Канада, Россия, Б) Россия, Китай, Канада В) Бразилия, Австралия, Индия Г) Индия, Китай, США			2
6. Укажите <u>два</u> субъекта РФ с высокой долей детей в структуре населения. А) Республика Дагестан Б) Республика Тыва (Тува) В) Ямало-Ненецкий автономный округ Г) Еврейская автономная область			2
7. Укажите <u>два</u> народа РФ, относящиеся к алтайской языковой семье. А) чувашаи Б) мордва В) буряты Г) марийцы			2
8. Чему равна средняя плотность населения России (человек на кв. км.)? А) менее 1 Б) 8,6 – 8,8 В) 34,0 -35,0 Г) более 50,0			1
9. Чему равна доля городского населения России (в %)? А) 25 Б) 50 В) 75 Г) 85			1
10. В каких списках периоды в истории Земли расположены в порядке увеличения их возраста ( <u>два</u> правильных ответа)? А) девонский, силурийский, пермский Б) меловой, каменноугольный, ордовикский В) триасовый, юрский, кембрийский Г) палеогеновый, меловой, пермский			2
11. Города, с какой численность населения относятся к большим согласно принятой в России классификацией? А) более 1 млн. человек Б) от 500 тысяч до 1 млн. человек В) от 250 тысяч до 500 тысяч человек Г) от 100 тысяч до 250 тысяч человек			1
12. Какие ветры не относятся к постоянным ветрам общей циркуляции атмосферы? ( <u>два</u> правильных ответа). А) западные Б) пассаты В) бризы Г) муссоны			2
13. Лица, какого возраста в России считаются трудоспособными? А) мужчины с 16 до 65 лет, женщины с 16 до 60 лет Б) мужчины с 18 до 65 лет, женщины с 18 до 60 лет В) мужчины с 14 до 65 лет, женщины с 14 до 60 лет Г) мужчины с 21 года до 65 лет, женщины с 21 года до 60 лет			1



14. Какие <u>две</u> эпохи складчатости относятся к палеозойской эре истории Земли? А) альпийская Б) каледонская В) герцинская Г) киммерийская			<b>2</b>
15. Какой вид выветривания горных пород в списке лишний? А) антропогенное Б) физическое В) химическое Г) органическое			<b>1</b>
16. Выберите <u>две</u> формы рельефа ледникового происхождения: А) лакколиты Б) барханы В) бараньи лбы Г) озы			<b>2</b>
17. Какие <u>два</u> автономных округа вошли в состав Красноярского края в 2007 году? А) Агинский Бурятский Б) Таймырский (Долгано-Ненецкий) В) Усть-Ордынский Бурятский Г) Эвенкийский			<b>2</b>
18. Какое государство стало первым, официально выступившим союзником Советского Союза в Великой Отечественной войне 1941-1945 гг.? В 1944 году оно вошло в состав СССР на правах автономной области. А) Хакасия Б) Бурятия В) Тыва (Тува) Г) Монголия			<b>1</b>
19. Якутское название неглубоких котловин, образовавшихся в результате оттаивания многолетней мерзлоты. А) аласы Б) такыры В) байджерахи Г) булгуняхи			<b>1</b>
20. Сколько субъектов входит в состав Российской Федерации? А) 82 Б) 85 В) 89 Г) 98			<b>1</b>
<b>Сумма баллов</b>			<b>30</b>

Ш И Ф Р

Не заполнять!!!

10 класс. ШЭ ВСОШ. Республика Башкортостан

## Всероссийская олимпиада школьников по географии

2024/2025 учебного года

Школьный этап

Задания для 10-го класса

Теоретический тур					Тестовый тур (сумма)	ИТОГО (за все задания)
Зад. 1	Зад. 2	Зад. 3	Зад. 4	Сумма		
_____ / _____						
Подпись проверяющего					расшифровка	

Перед выполнением заданийвнимательно прочтите инструкцию:

- на выполнение всех заданий двух туров отводится **135 минут** (ориентировочно 90 минут – теоретический тур, 45 минут – тестовый тур)
- листы с ответами не подписывать
- использование любых справочных материалов (в том числе атласов), средств связи, электронных устройств НЕ допускается
- можно использовать линейку, транспортир, простой калькулятор
- при решении заданий и тестов выбранный Вами ответ вписываете в столбик «Ответ», при этом столбик «Балл» НЕ заполнять (заполняет член жюри)
- **ПРОВЕРЬТЕ!!!** Комплект заданий состоит из **9 листов**, включая титульный лист

Ш И Ф Р

Не заполнять!!!

*заполняет учащийся (разборчиво)*

ФИО учащегося (полностью)	_____ _____
Общеобразовательное учреждение (полностью)	_____ _____
Класс	_____
ФИО учителя (наставника) (полностью)	_____ _____
Населенный пункт, район	_____

**Внимание! На обороте этого листа ничего не распечатывать!!!**

_____	<b>Ш И Ф Р</b>
<i>Не заполнять!!!</i>	

## 1. ТЕОРЕТИЧЕСКИЙ ТУР

### Задание 1.

В РЖД существует практика создания фирменных поездов. Фирменный поезд предлагает высококласный сервис и широкий перечень услуг, а также более удобное расписание движения.

Фирменные поезда (чаще всего) направляются в Москву и Санкт-Петербург из административных центров субъектов РФ. Из указанных в списке поездов, у 13 (тринадцатьми) конечная станция назначения Москва, у 2 (двух) – Санкт-Петербург. Три поезда из перечисленных отправляются не из административных центров субъектов РФ.

Используя предложенный список городов, установите названия пунктов отправления перечисленных фирменных поездов. Определите (подчеркните, обведите) **три** пункта отправления, которые не являются административными центрами субъектов РФ. Укажите пункты назначения поездов.

**Список городов:** Астрахань, Владивосток, Вологда, Ижевск, Лабитнанги, Калининград, Кисловодск, Киров, Мурманск, Новый Уренгой, Нижний Новгород, Пенза, Ростов-на-Дону, Самара, Челябинск.

*Ответьте на вопросы, заполнив нижеприведенную таблицу:*


Фирменный поезд	Пункт отправления (1 балл за каждый)	Пункт назначения	Балл	Мак балл
«Арктика»				1
«Белые ночи»				1
«Волга»				1
«Вятка»				1
«Жигули»				1
«Италмас»				1
«Кавказ				1
«Лотос»				1
«Полярная стрела»				1
«Россия»				1
«Сура»				1
«Тихий Дон»				1
«Южный Урал»				1
«Ямал»				1
«Янтарь»				1
<b>Сумма баллов</b>				<b>20*</b>

\*еще 3 балла за правильное выделение (подчеркивание) в таблице ответов пунктов отправления, которые не являются административными центрами субъектов РФ, и 2 балла за правильное указание в таблице пунктом назначения города Санкт-Петербург (при указании пунктом назначения Санкт-Петербург более 2-х раз эти баллы не начисляются совсем).

Не заполнять!!!

**Задание 2.** На фотографиях представлены самые известные небоскребы мира.

Ответьте на вопросы, заполнив нижеприведенную таблицу:



Вопросы	Название небоскреба (1 б.)	Страна (1 б.)	Город (1 б.)	Балл	Мак балл
№1					3
№2					3
№3					3
№4					3
Какой из них самый высокий? Чему равна его высота?					2
Чему равна высота небоскреба №4?					1
				Сумма	15

### Задание 3.

Это одна из крупнейших стран в мире, как по площади территории, так и по численности населения. Страна занимает почти половину площади материка, не имеет границы лишь с двумя государствами континента, её пересекает самая длинная параллель. Одновременно она выходит широким фронтом на побережье океана, по её территории протекает самая полноводная и самая длинная река планеты. На пограничной реке, недалеко от знаменитого водопада функционирует одна из крупнейших в мире ГЭС. Страна входит в экономическое объединение, участником которого является и Россия. Страна является мировым лидером по сбору сахароносной, тонизирующей и цитрусовой культур. В стране 14 городов-миллионников, особо выделяются два крупнейших. Один из них славится карнавалами и одним из крупнейших в мире футбольным стадионам. Это город социальных контрастов, знаменитый своими трущобами. Другой город – крупнейший в стране, её экономическая столица, его образно называют «Нью-Йорком» региона.

Ответьте на вопросы, заполнив нижеприведенную таблицу:

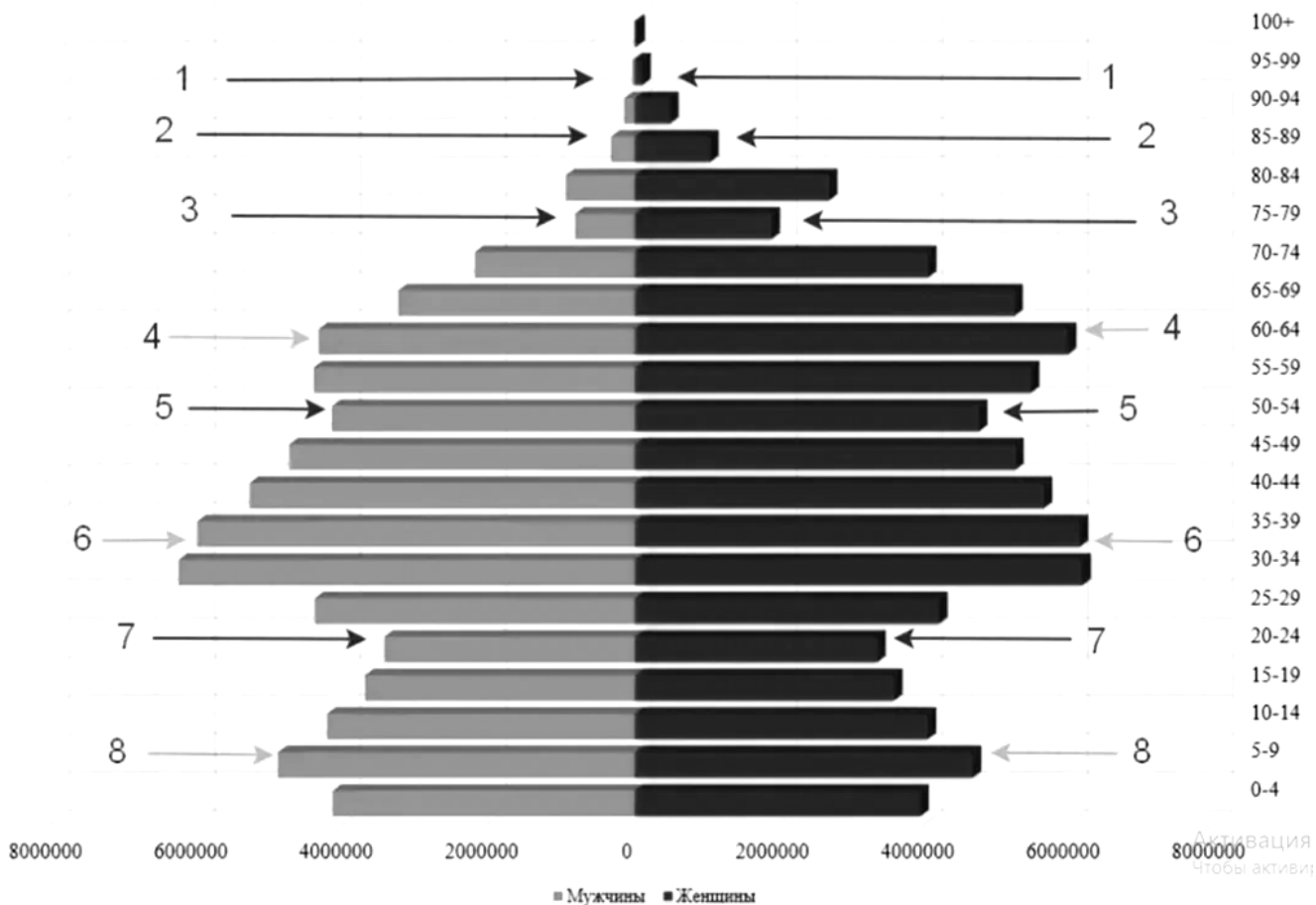
Вопросы	Ответы	Балл	Мак балл
НАЗВАНИЕ ГОСУДАРСТВА			1
Место страны в мировых рейтингах: А) по площади территории; Б) по численности населения;			2
Название материка			1
Две государства материка, с которыми нет общей границы			2
Самая длинная параллель			1
Название реки			1
Названия реки, водопада и ГЭС			3
Экономическое объединение			1
Два крупнейших города			2
Столица			1
		<b>Сумма баллов</b>	<b>15</b>

#### Задание 4.

Опираясь на представленный рисунок, в приведённый ниже текст вставьте необходимые термины и слова из следующего списка, ответы внесите с таблицу:

больше	пики рождаемости
меньше	диаграмма
возраст	репродуктивный
пол	рождаемость
демографические волны	смертность
демографические ямы	старение
демографический кризис	снижение
население	увеличение
женское	светлые
мужское	чёрные

**Половозрастная пирамида населения РФ на 2021 г., численность населения - 146171015 чел.**



ПОЛОВОЗРАСТНАЯ ПИРАМИДА – это распределение 1) \_\_\_\_\_ по 2) \_\_\_\_\_ и 3) \_\_\_\_\_, используемая для характеристики половозрастного состава населения.

Пирамида представляет собой двустороннюю 4) \_\_\_\_\_, на которой число людей определённого возраста и пола или их доля в населении отображается горизонтальной полосой определённого масштаба.

С правой стороны графика изображается 5) \_\_\_\_\_ население, с левой — 6) \_\_\_\_\_.

Полосы располагаются одна над другой в порядке 7) \_\_\_\_\_ значений возраста, обычно от 0 до 100 лет.

Вертикальная ось диаграммы представляет собой шкалу возраста, выраженную в одно- или пятилетнем интервале.

Поскольку вследствие 8) \_\_\_\_\_ в старшем возрасте число людей, как правило, 9) \_\_\_\_\_, изображение получило название пирамиды.

10) \_\_\_\_\_ стрелки на пирамиде указывают нам на провалы рождаемости или так называемые 11) \_\_\_\_\_, которые представляют собой провал в численности населения, происходящий в результате понижения 12) \_\_\_\_\_ при постоянных коэффициентах смертности.

13) \_\_\_\_\_ стрелки обозначают демографический подъём или 14) \_\_\_\_\_. В результате их чередования мы видим 15) \_\_\_\_\_, которые являются сменой малолюдных и многолюдных поколений.

_____	<b>Ш И Ф Р</b>
<i>Не заполнять!!!</i>	

В половозрастной пирамиде нашей страны отражается её история, политика, экономика и многие другие вещи аспекты. Сейчас мы видим опять 16)\_\_\_\_\_ рождаемости.

Во многом это обусловлено очень малочисленным поколением 1990-ых и первой половины 2000-ых, именно они сейчас находятся в наиболее активном 17)\_\_\_\_\_ возрасте.

Превышение уровня смертности над уровнем рождаемости называют 18)\_\_\_\_\_. Средний возраст населения страны при этом увеличивается, отмечается 19)\_\_\_\_\_ населения. Женщин при этом по-прежнему 20)\_\_\_\_\_..

Номер ответа	Ответы	Балл	Мах балл
1)			<b>1</b>
2)			<b>1</b>
3)			<b>1</b>
4)			<b>1</b>
5)			<b>1</b>
6)			<b>1</b>
7)			<b>1</b>
8)			<b>1</b>
9)			<b>1</b>
10)			<b>1</b>
11)			<b>1</b>
12)			<b>1</b>
13)			<b>1</b>
14)			<b>1</b>
15)			<b>1</b>
16)			<b>1</b>
17)			<b>1</b>
18)			<b>1</b>
19)			<b>1</b>
20)			<b>1</b>
<b>Сумма баллов</b>			<b>20</b>

## 2. ТЕСТОВЫЙ ТУР

**ВНИМАНИЕ:** в тесте есть вопросы, на которые нужно дать два правильных ответа.


Тесты	Ответ (буквы)	Балл	Max балл
<p>1. Как называется проекция, где меридианы и параллели на карте имеют следующий вид?</p> <p>А) азимутальная Б) коническая В) цилиндрическая Г) поликоническая</p> 			<b>1</b>
<p>2. Во сколько оценивалась численность населения России после вхождения новых территорий в конце 2022 года?</p> <p>А) 142 млн. человек Б) 145 млн. человек В) 147 млн. человек Г) 152 млн. человек</p>			<b>1</b>
<p>3. Какие <u>две</u> из названных стран, по оценкам ООН, превосходят Россию по численности населения?</p> <p>А) Нигерия Б) Япония В) Бангладеш Г) Вьетнам</p>			<b>2</b>
<p>4. Выберите из списка <u>два</u> языка, которые относятся к официальным международным языкам.</p> <p>А) немецкий Б) русский В) арабский Г) португальский</p>			<b>2</b>
<p>5. Как называется проекция, где меридианы и параллели на карте имеют следующий вид?</p> <p>А) азимутальная Б) коническая В) цилиндрическая Г) поликоническая</p> 			<b>1</b>
<p>6. Укажите <u>два</u> субъекта РФ с высокой долей детей в структуре населения.</p> <p>А) Республика Дагестан Б) Республика Тыва (Тува) В) Ямало-Ненецкий автономный округ Г) Еврейская автономная область</p>			<b>2</b>
<p>7. Укажите <u>два</u> народа РФ, относящиеся к алтайской языковой семье.</p> <p>А) чувашаи Б) мордва В) буряты Г) марийцы</p>			<b>2</b>



Не заполнять!!!

8. Чему равна средняя плотность населения России (человек на кв. км.)? А) менее 1 Б) 8,6 – 8,8 В) 34,0 -35,0 Г) более 50,0			1
9. Чему равна доля городского населения России (в %)? А) 25 Б) 50 В) 75 Г) 85			1
10. В каких списках периоды в истории Земли расположены в порядке увеличения их возраста ( <u>два</u> правильных ответа)? А) девонский, силурийский, пермский Б) меловой, каменноугольный, ордовикский В) триасовый, юрский, кембрийский Г) палеогеновый, меловой, пермский			2
11. Города, с какой численность населения относятся к большим согласно принятой в России классификацией? А) более 1 млн. человек Б) от 500 тысяч до 1 млн. человек В) от 250 тысяч до 500 тысяч человек Г) от 100 тысяч до 250 тысяч человек			1
12. Какие ветры не относятся к постоянным ветрам общей циркуляции атмосферы? ( <u>два</u> правильных ответа). А) западные Б) пассаты В) бризы Г) муссоны			2
13. Лица, какого возраста в России считаются трудоспособными? А) мужчины с 16 до 65 лет, женщины с 16 до 60 лет Б) мужчины с 18 до 65 лет, женщины с 18 до 60 лет В) мужчины с 14 до 65 лет, женщины с 14 до 60 лет Г) мужчины с 21 года до 65 лет, женщины с 21 года до 60 лет			1
14. Уникальная плавучая атомная теплоэлектростанция 5 лет назад завершила переход из Мурманска на Чукотку и встала к причалу в самом северном городе России: А) Билибино Б) Певек В) Анадырь Г) Беринговский			1
15. Какие природные явления описано в отрывке: «Учинился на море ужасный шум и волнение, и вдруг взлилось на берега воды в вышину сажени на три, которая, нимало не стояв, сбежала в море и удалилась от берегов на знатное расстояние. Потом вторично земля всколебалась, воды прибыло против прежнего, но при отлиии столь далеко она сбежала, что моря видеть невозможно было. В то время усмотрены в проливе на дне морском между первым и вторым Курильским островом каменные горы, которые до того никогда не виданы, хотя потрясение и наводнение случалось и прежде. С четверть часа после того спустя последовали валы ужасного и несравненного	1 ____ 2 ____		2

<p>трясения, а при том взлилось воды на берег в вышину сажен на 30, которая по-прежнему, нимало не стояв, сбежала в море, и вскоре стала в берегах своих, колебаясь чрез долгое время, иногда берега поднимая, иногда убегая в море. Пред каждым трясением слышен был под землю страшный шум и стенание».</p> <p>Укажите в правильном порядке два явления, причину и следствие:</p> <p>А) Землетрясение          Б) Тайфун          В) Цунами          Г) Паводок</p>			
<p>16. Какой субъект Российской Федерации, не будучи анклавом, не имеет сухопутных границ с другими субъектами РФ:</p> <p>А) Калининградская область          Б) Сахалинская область          В) Республика Адыгея          Г) Ямало-Ненецкий автономный округ</p>			<b>1</b>
<p>17. Какие <b>два</b> автономных округа вошли в состав Красноярского края в 2007 году?</p> <p>А) Агинский Бурятский          Б) Таймырский (Долгано-Ненецкий)          В) Усть-Ордынский Бурятский          Г) Эвенкийский</p>			<b>2</b>
<p>18. Какое государство стало первым, официально выступившим союзником Советского Союза в Великой Отечественной войне 1941-1945 гг.? В 1944 году оно вошло в состав СССР на правах автономной области.</p> <p>А) Хакасия          Б) Бурятия          В) Тыва (Тува)          Г) Монголия</p>			<b>1</b>

<p>19. Определите субъект РФ по его гербу:</p> <p>А) Республика Бурятия          Б) Республика Калмыкия          В) Астраханская область          Г) Челябинская область</p>			<b>1</b>
<p>20. В советский период развития нашей страны было принято переименовывать населенные пункты. Составьте пары из приведенного списка - два названия одного и того же географического объекта:</p> <p>1..Брежнев –          2. Ворошиловград -          3. Устинов –</p> <p>А) Новониколаевск          Б) Ижевск          В) Набережные Челны          Г) Луганск          Д) Оренбург          Е) Пермь</p>	<p>1 ____          2 ____          3 ____</p>		<b>3</b>
<b>Сумма баллов</b>			<b>30</b>

Ш И Ф Р

Не заполнять!!!

11 класс. ШЭ ВСОШ. Республика Башкортостан

## Всероссийская олимпиада школьников по географии

2024/2025 учебного года

Школьный этап

Задания для 11-го класса

Теоретический тур					Тестовый тур (сумма)	ИТОГО (за все задания)
Зад. 1	Зад. 2	Зад. 3	Зад. 4	Сумма		
_____ / _____						
Подпись проверяющего					расшифровка	

Перед выполнением заданий

внимательно прочтите инструкцию:

- на выполнение всех заданий двух туров отводится **135 минут** (ориентировочно 90 минут – теоретический тур, 45 минут – тестовый тур)
- листы с ответами не подписывать
- использование любых справочных материалов (в том числе атласов), средств связи, электронных устройств НЕ допускается
- можно использовать линейку, транспортир, простой калькулятор
- при решении заданий и тестов выбранный Вами ответ вписываете в столбик «Ответ», при этом столбик «Балл» НЕ заполнять (заполняет член жюри)
- **ПРОВЕРЬТЕ!!!** Комплект заданий состоит из **10 листов**, включая титульный лист

Ш И Ф Р

Не заполнять!!!

заполняет учащийся (разборчиво)

ФИО учащегося (полностью)	_____ _____
Общеобразовательное учреждение (полностью)	_____ _____
Класс	_____
ФИО учителя (наставника) (полностью)	_____ _____
Населенный пункт, район	_____

**Внимание! На обороте этого листа ничего не распечатывать!!!**

_____	<b>Ш И Ф Р</b>
<i>Не заполнять!!!</i>	

## 1. ТЕОРЕТИЧЕСКИЙ ТУР

### Задание 1.

В РЖД существует практика создания фирменных поездов. Фирменный поезд предлагает высококласный сервис и широкий перечень услуг, а также более удобное расписание движения.

Фирменные поезда (чаще всего) направляются в Москву и Санкт-Петербург из административных центров субъектов РФ. Из указанных в списке поездов, у 13 (тринадцатьми) конечная станция назначения Москва, у 2 (двух) – Санкт-Петербург. Три поезда из перечисленных отправляются не из административных центров субъектов РФ.

Используя предложенный список городов, установите названия пунктов отправления перечисленных фирменных поездов. Определите (подчеркните, обведите) **три** пункта отправления, которые не являются административными центрами субъектов РФ. Укажите пункты назначения поездов.

**Список городов:** Астрахань, Владивосток, Вологда, Ижевск, Лабитнанги, Калининград, Кисловодск, Киров, Мурманск, Новый Уренгой, Нижний Новгород, Пенза, Ростов-на-Дону, Самара, Челябинск.

*Ответьте на вопросы, заполнив нижеприведенную таблицу:*

Фирменный поезд	Пункт отправления (1 балл за каждый)	Пункт назначения	Балл	Мак балл
«Арктика»				<b>1</b>
«Белые ночи»				<b>1</b>
«Волга»				<b>1</b>
«Вятка»				<b>1</b>
«Жигули»				<b>1</b>
«Италмас»				<b>1</b>
«Кавказ				<b>1</b>
«Лотос»				<b>1</b>
«Полярная стрела»				<b>1</b>
«Россия»				<b>1</b>
«Сура»				<b>1</b>
«Тихий Дон»				<b>1</b>
«Южный Урал»				<b>1</b>
«Ямал»				<b>1</b>
«Янтарь»				<b>1</b>
<b>Сумма баллов</b>				<b>20*</b>

\*еще 3 балла за правильное выделение (подчеркивание) в таблице ответов пунктов отправления, которые не являются административными центрами субъектов РФ, и 2 балла за правильное указание в таблице пунктом назначения города Санкт-Петербург (при указании пунктом назначения Санкт-Петербург более 2-х раз эти баллы не начисляются совсем).

**Задание 2.**

Это одна из крупнейших стран в мире, как по площади территории, так и по численности населения. Страна занимает почти половину площади материка, не имеет границы лишь с двумя государствами континента, её пересекает самая длинная параллель. Одновременно она выходит широким фронтом на побережье океана, по её территории протекает самая полноводная и самая длинная река планеты. На пограничной реке, недалеко от знаменитого водопада функционирует одна из крупнейших в мире ГЭС. Страна входит в экономическое объединение, участником которого является и Россия. Страна является мировым лидером по сбору сахароносной, тонизирующей и цитрусовой культур. В стране 14 городов-миллионников, особо выделяются два крупнейших. Один из них славится карнавалами и одним из крупнейших в мире футбольным стадионам. Это город социальных контрастов, знаменитый своими трущобами. Другой город – крупнейший в стране, её экономическая столица, его образно называют «Нью-Йорком» региона.

Ответьте на вопросы, заполнив нижеприведенную таблицу:

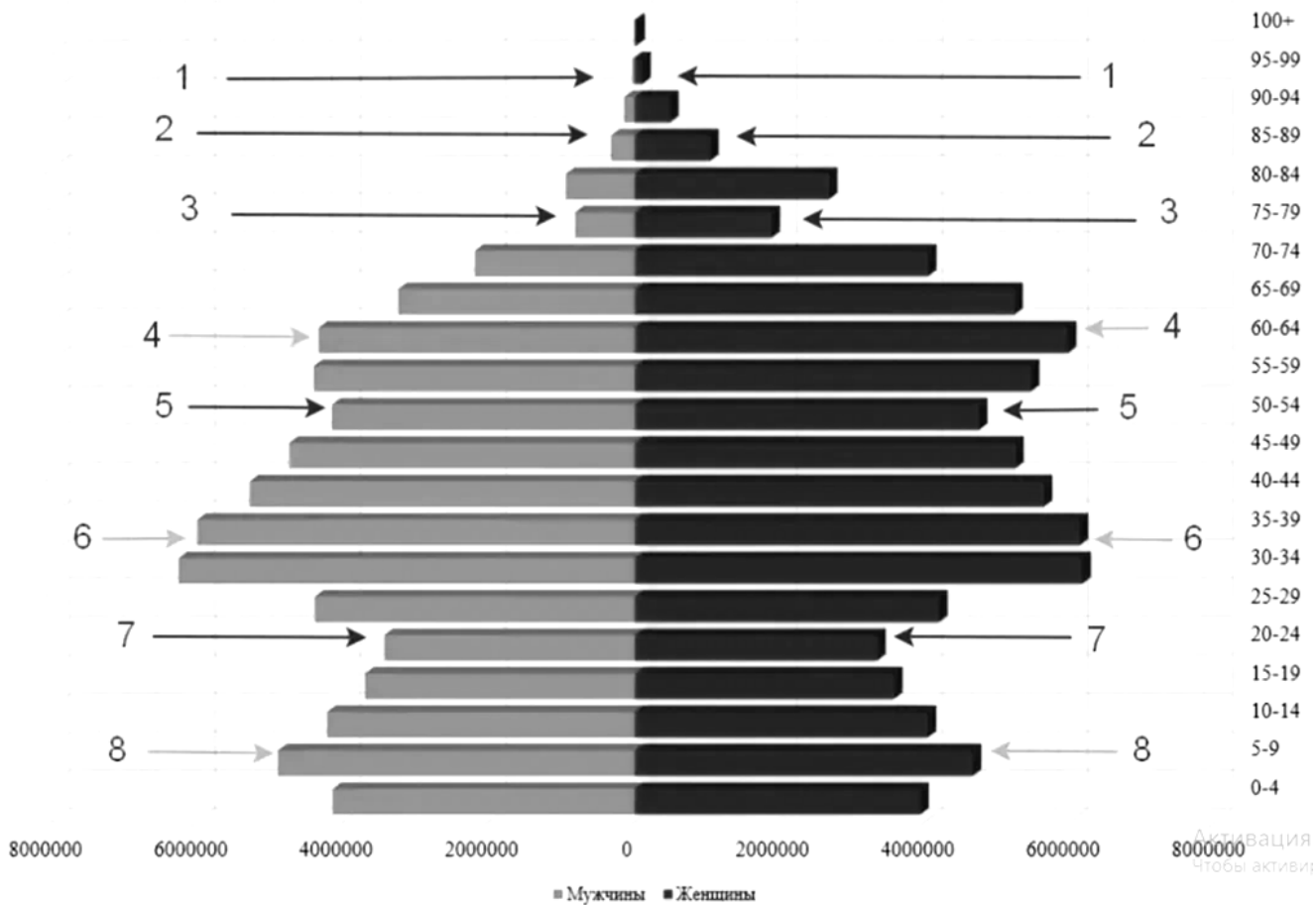
Вопросы	Ответы	Балл	Мак балл
<i>НАЗВАНИЕ ГОСУДАРСТВА</i>			<b>1</b>
<i>Место страны в мировых рейтингах: А) по площади территории; Б) по численности населения;</i>			<b>2</b>
<i>Название материка</i>			<b>1</b>
<i>Две государства материка, с которыми нет общей границы</i>			<b>2</b>
<i>Самая длинная параллель</i>			<b>1</b>
<i>Название реки</i>			<b>1</b>
<i>Названия реки, водопада и ГЭС</i>			<b>3</b>
<i>Экономическое объединение</i>			<b>1</b>
<i>Два крупнейших города</i>			<b>2</b>
<i>Столица</i>			<b>1</b>
		<b>Сумма баллов</b>	<b>15</b>

**Задание 3.**

Опираясь на представленный рисунок, в приведённый ниже текст вставьте необходимые термины и слова из следующего списка, ответы внесите с таблицу:

- |                        |                  |
|------------------------|------------------|
| больше                 | пики рождаемости |
| меньше                 | диаграмма        |
| возраст                | репродуктивный   |
| пол                    | рождаемость      |
| демографические волны  | смертность       |
| демографические ямы    | старение         |
| демографический кризис | снижение         |
| население              | увеличение       |
| женское                | светлые          |
| мужское                | чёрные           |

**Половозрастная пирамида населения РФ на 2021 г., численность населения - 146171015 чел.**



ПОЛОВОЗРАСТНАЯ ПИРАМИДА – это распределение 1) \_\_\_\_\_ по 2) \_\_\_\_\_ и 3) \_\_\_\_\_, используемая для характеристики половозрастного состава населения.

Пирамида представляет собой двустороннюю 4) \_\_\_\_\_, на которой число людей определённого возраста и пола или их доля в населении отображается горизонтальной полосой определённого масштаба.

С правой стороны графика изображается 5) \_\_\_\_\_ население, с левой — 6) \_\_\_\_\_.

Полосы располагаются одна над другой в порядке 7) \_\_\_\_\_ значений возраста, обычно от 0 до 100 лет.

Вертикальная ось диаграммы представляет собой шкалу возраста, выраженную в одно- или пятилетнем интервале.

Поскольку вследствие 8) \_\_\_\_\_ в старшем возрасте число людей, как правило, 9) \_\_\_\_\_, изображение получило название пирамиды.

10) \_\_\_\_\_ стрелки на пирамиде указывают нам на провалы рождаемости или так называемые 11) \_\_\_\_\_, которые представляют собой провал в численности населения, происходящий в результате понижения 12) \_\_\_\_\_ при постоянных коэффициентах смертности.

13) \_\_\_\_\_ стрелки обозначают демографический подъём или 14) \_\_\_\_\_. В результате их чередования мы видим 15) \_\_\_\_\_, которые являются сменой малолюдных и многолюдных поколений.

В половозрастной пирамиде нашей страны отражается её история, политика, экономика и многие другие вещи аспекты. Сейчас мы видим опять 16) \_\_\_\_\_ рождаемости.

Во многом это обусловлено очень малочисленным поколением 1990-ых и первой половины 2000-ых, именно они сейчас находятся в наиболее активном 17) \_\_\_\_\_ возрасте.

Превышение уровня смертности над уровнем рождаемости называют 18) \_\_\_\_\_. Средний возраст населения страны при этом увеличивается, отмечается 19) \_\_\_\_\_ населения. Женщин при этом по-прежнему 20) \_\_\_\_\_.

Номер ответа	Ответы	Балл	Мак балл
1)			<b>1</b>
2)			<b>1</b>
3)			<b>1</b>
4)			<b>1</b>
5)			<b>1</b>
6)			<b>1</b>
7)			<b>1</b>
8)			<b>1</b>



Номер ответа	Ответы	Балл	Мак балл
9)			1
10)			1
11)			1
12)			1
13)			1
14)			1
15)			1
16)			1
17)			1
18)			1
19)			1
20)			1
<b>Сумма баллов</b>			<b>20</b>

**Задание 4.**

Проанализируйте рисунок половозрастной пирамиды в задании №3.


Опираясь на анализ рисунка, а также на свои знания о результатах Всероссийской переписи населения (2020-2021) ответьте на вопросы, заполнив нижеприведенную таблицу:


Вопросы	Ответы	Балл	Мак балл
Какая возрастная группа согласно шкале диаграммы охватывает наибольшую численность населения?			1
Какая возрастная группа согласно шкале диаграммы среди трудоспособного возраста самая малочисленная?			1
Какой цифрой показана самая многочисленная возрастная группа дотрудоспособного возраста, которую иногда связывают с третьим поколением «оттепели» (1954-1963 гг.)			1
С какой возрастной группы согласно диаграммы начинается преобладание женского населения над мужским?			1
Сколько демографических подъёмов показано стрелками на диаграмме?			1
Какой цифрой показана категория населения, которую называют Дети войны 1941-1945 гг.?			1
Какой цифрой на диаграмме показано поколение детей Первой мировой войны и гражданской революции?			1

Вопросы	Ответы	Балл	Мак балл
Доля городского населения России в 2021 году составляла 75%. Укажите количество городского населения в абсолютных значениях в тысячах человек			1
Доля населения трудоспособного возраста составляет 65,54%. Укажите численность сельского населения России в тысячах человек			1
Во сколько раз численность женщин больше численности мужчин в возрастной категории 80-84 года? Ответ округлите до целых			1
Кого больше в возрастной категории 0-4 года – мужчин или женщин?			1
Какой народ по результатам переписи 2021 года поднялся на 3-е место по численности?			1
Какое место сохраняют по результатам переписи 2021 башкиры среди народов России?			1
Какой народ замыкает десятку наиболее многочисленных в России?			1
Какой город России вернул себе статус города-миллионника по результатам переписи 2021 года?			1
<b>Сумма баллов</b>			<b>15</b>

## 2. ТЕСТОВЫЙ ТУР


**ВНИМАНИЕ:** в тесте есть вопросы, на которые нужно дать два правильных ответа.

Тесты	Ответ (буквы)	Балл	Мак балл
<p>1. Как называется проекция, где меридианы и параллели на карте имеют следующий вид?</p> <p>А) азимутальная Б) коническая В) цилиндрическая Г) поликоническая</p> 			1
<p>2. Во сколько оценивалась численность населения России после вхождения новых территорий в конце 2022 года?</p> <p>А) 142 млн. человек Б) 145 млн. человек В) 147 млн. человек Г) 152 млн. человек</p>			1
<p>3. Какие <u>две</u> из названных стран, по оценкам ООН, превосходят Россию по численности населения?</p> <p>А) Нигерия Б) Япония В) Бангладеш Г) Вьетнам</p>			2

4. Выберите из списка <u>два</u> языка, которые относятся к официальным международным языкам. А) немецкий Б) русский В) арабский Г) португальский			2
5. Как называется проекция, где меридианы и параллели на карте имеют следующий вид? А) азимутальная Б) коническая В) цилиндрическая Г) поликоническая			1
6. Укажите <u>два</u> субъекта РФ с высокой долей детей в структуре населения. А) Республика Дагестан Б) Республика Тыва (Тува) В) Ямало-Ненецкий автономный округ Г) Еврейская автономная область			2
7. Укажите <u>два</u> народа РФ, относящиеся к алтайской языковой семье. А) чувашаи Б) мордва В) буряты Г) марийцы			2
8. Чему равна средняя плотность населения России (человек на кв. км.)? А) менее 1 Б) 8,6 – 8,8 В) 34,0 -35,0 Г) более 50,0			1
9. Чему равна доля городского населения России (в %)? А) 25 Б) 50 В) 75 Г) 85			1
10. В каких списках периоды в истории Земли расположены в порядке увеличения их возраста ( <u>два</u> правильных ответа)? А) девонский, силурийский, пермский Б) меловой, каменноугольный, ордовикский В) триасовый, юрский, кембрийский Г) палеогеновый, меловой, пермский			2
11. Города, с какой численность населения относятся к большим согласно принятой в России классификацией? А) более 1 млн. человек Б) от 500 тысяч до 1 млн. человек В) от 250 тысяч до 500 тысяч человек Г) от 100 тысяч до 250 тысяч человек			1
12. Какие ветры не относятся к постоянным ветрам общей циркуляции атмосферы? ( <u>два</u> правильных ответа). А) западные Б) пассаты В) бризы Г) муссоны			2

Не заполнять!!!

<p>13. Лица, какого возраста в России считаются трудоспособными?          А) мужчины с 16 до 65 лет, женщины с 16 до 60 лет          Б) мужчины с 18 до 65 лет, женщины с 18 до 60 лет          В) мужчины с 14 до 65 лет, женщины с 14 до 60 лет          Г) мужчины с 21 года до 65 лет, женщины с 21 года до 60 лет</p>			1
<p>14. Уникальная плавучая атомная теплоэлектростанция 5 лет назад завершила переход из Мурманска на Чукотку и встала к причалу в самом северном городе России:          А) Билибино          Б) Певек          В) Анадырь          Г) Беринговский</p>			1
<p>15. Какие природные явления описано в отрывке: «Учинился на море ужасный шум и волнение, и вдруг взлилось на берега воды в высоту сажени на три, которая, нимало не стояв, сбежала в море и удалилась от берегов на знатное расстояние. Потом вторично земля всколебалась, воды прибыло против прежнего, но при отливии столь далеко она сбежала, что моря видеть невозможно было. В то время усмотрены в проливе на дне морском между первым и вторым Курильским островом каменные горы, которые до того никогда не виданы, хотя трясение и наводнение случалось и прежде. С четверть часа после того спустя последовали валы ужасного и несравненного трясения, а при том взлилось воды на берег в высоту сажен на 30, которая по-прежнему, нимало не стояв, сбежала в море, и вскоре стала в берегах своих, колебаясь чрез долгое время, иногда берега поднимая, иногда убегая в море».          Укажите в правильном порядке два явления, причину и следствие:          А) Землетрясение          Б) Тайфун          В) Цунами          Г) Паводок</p>	1 ____ 2 ____		2
<p>16. Какой субъект Российской Федерации, не будучи анклавом, не имеет сухопутных границ с другими субъектами РФ:          А) Калининградская область          Б) Сахалинская область          В) Республика Адыгея          Г) Ямало-Ненецкий автономный округ</p>			1
<p>17. Какие <u>два</u> автономных округа вошли в состав Красноярского края в 2007 году?          А) Агинский Бурятский          Б) Таймырский (Долгано-Ненецкий)          В) Усть-Ордынский Бурятский          Г) Эвенкийский</p>			2
<p>18. Какое государство стало первым, официально выступившим союзником Советского Союза в Великой Отечественной войне 1941-1945 гг.? В 1944 г. оно вошло в состав СССР на правах автономной области.          А) Хакасия          Б) Бурятия          В) Тыва (Тува)          Г) Монголия</p>			1

<p>19. Определите субъект РФ по его гербу:</p> <p>А) Республика Бурятия          Б) Республика Калмыкия          В) Астраханская область          Г) Челябинская область</p>			<b>1</b>
<p>20. В советский период развития нашей страны было принято переименовывать населенные пункты. Составьте пары из приведенного списка - два названия одного и того же географического объекта:</p> <p>1..Молотов –          2. Чкалов -          3. Устинов –</p> <p>А) Новониколаевск          Б) Ижевск          В) Набережные Челны          Г) Луганск          Д) Оренбург          Е) Пермь</p>	<p>1 ____          2 ____          3 ____</p>		<b>3</b>
<b>Сумма баллов</b>			<b>30</b>