

**ВСЕРОССИЙСКАЯ ОЛИМПИАДА ШКОЛЬНИКОВ  
ПО ИСТОРИИ  
2024-2025  
(ШКОЛЬНЫЙ ЭТАП)**

возрастная группа – **5 класс**

**Уважаемый Участник олимпиады!**

Перед Вами задания школьного этапа всероссийской олимпиады школьников по истории. Для их выполнения у Вас есть 45 минут.

Задания считаются выполненными, если Вы своевременно сдали бланк с ответами членам жюри.

Обращаем внимание, при выполнении заданий внимательно читайте текст заданий. Содержание ответа вписывайте в отведённые поля, записи ведите чётко и разборчиво. За каждый правильный ответ Вы можете получить определённое членами жюри количество баллов (количество баллов прописано в самом задании). Баллы, полученные Вами за выполненные задания, суммируются. Максимально возможное количество баллов за работу — 100.

Желаем Вам успеха! Мы верим, что Вы соберётесь и выполните задания!

**!Записи в черновике не учитываются при оценивании работы.**

**!Записи карандашом не проверяются.**

**Задания школьного этапа**  
**Всероссийской олимпиады школьников по истории**  
**5 класс**  
**2024-2025**

**I. Задание с выбором одного ответа из предложенных (30 баллов)**

**1. Какое государство возникло позже остальных? (3 балла)**

- а) Древний Рим
- б) Древняя Греция
- в) Древняя Русь
- г) Древний Египет

**2. Какая река известна с древности своими плодородными берегами, и протекает в Африке? (3 балла)**

- а) Волга
- б) Ангара
- в) Нил
- г) Тигр

**3. Имя какого божества дало название одному из городов Древности? (3 балла)**

- а) Ра
- б) Шамаш
- в) Перун
- г) Афина

**4. Как называются неприступные твердыни Европы, в которых жили рыцари? (3 балла)**

- а) Кремль
- б) Городище
- в) Замок
- г) Дворец

**5. В 1820 году Ф.Ф. Беллинсгаузен и М. П. Лазарев открыли...? (3 балла)**

- а) Австралию
- б) Америку
- в) Арктику
- г) Антарктиду

**6. Какой титул носил правитель Древнерусского государства? (3 балла)**

- а) Великий Хан
- б) Великий Каган
- в) Великий Вождь
- г) Великий Князь

**7. При каком правителе (-ях) произошло крещение Руси? (3 балла)**

- а) Олег
- б) Рюрик
- в) Кирилл и Мефодий
- г) Владимир

**8. Какой князь смог остановить крестоносцев, наступавших на русские земли? (3 балла)**

- а) Владимир
- б) Батый
- в) Александр Невский
- г) Иван Данилович

**9. Ближайшими советниками и помощниками при князе были... (3 балла)**

- а) Бояре
- б) Купцы
- в) Министры
- г) Дворяне

**10. Князь, прибывший щит к воротам Царьграда: (3 балла)**

- а) Владимир
- б) Олег
- в) Рюрик
- г) Святослав

**II. Задание с выбором нескольких ответов из предложенных (18 баллов)**

**11. Назовите до трёх событий или явлений ... (6 баллов за полностью правильный ответ, за каждое правильно названное событие – 2 балла)**

**А) связанных с российской историей XIX столетия:**

- 1) Нашествие Наполеона на Россию
- 2) Петровские реформы
- 3) Отмена крепостного права
- 4) Строительство железной дороги Петербург – Царское Село
- 5) Появление стрелцов

6) Создание СССР

Ответ: \_\_\_\_\_

**Б) связанных с правлением Екатерины Великой:**

- 1) Строительство Зимнего дворца
- 2) Строительство летнего дворца в Коломенском
- 3) Восстание Емельяна Пугачева
- 4) Победы М.И. Кутузова
- 5) Победы А.И. Суворова
- 6) Нашествие Батые

Ответ: \_\_\_\_\_

**12. Выберите из предложенного перечня события, относящиеся к XIII веку. (6 баллов):**

- 1) Основание Москвы
- 2) Захват Киева монголо-татарами
- 3) Невская битва
- 4) Возведение Софийского собора
- 5) Битва на Чудском озере

Ответ: \_\_\_\_\_

**III. Задание на установление последовательности (30 баллов)**

**13. Восстановите правильную хронологическую последовательность событий. Запишите ответ в виде последовательности номеров событий в задании (10 баллов за верную последовательность, 5 баллов при двух ошибках, 0 баллов при четырех ошибках и более)**

- 1) Распад СССР
- 2) Первая мировая война
- 3) Великая Отечественная война
- 4) Первый полет человека в космос
- 5) Гражданская война

--	--	--	--	--

**14. Восстановите правильную хронологическую последовательность событий. Запишите ответ в виде последовательности номеров событий в задании (10 баллов за верную последовательность, 5 баллов при двух ошибках, 0 баллов при четырех ошибках и более)**

- 1) Избрание на царство Бориса Годунова
- 2) Свержение царя Василия Шуйского

- 3) Убийство Лжедмитрия
- 4) Призвание Михаила Романова на царство
- 5) Вступление войск Лжедмитрия в Москву

--	--	--	--	--	--

**15. Восстановите правильную хронологическую последовательность правления. Запишите ответ в виде последовательности номеров событий в задании (10 баллов за верную последовательность, 5 баллов при двух ошибках, 0 баллов при четырех ошибках и более)**

- 1) Петр I
- 2) Екатерина II
- 3) Анна Иоанновна
- 4) Александр I
- 5) Николай II

--	--	--	--	--	--

#### IV. Задания на соответствие (10 баллов)

**16. Найдите верное соответствие. Ответ дать в таблице. (5 баллов за полностью верный ряд, за каждое верно указанное соответствие – 1 балл)**

Личность	Век
1. Леня Голиков	А) XX век
2. Зоя Космодемьянская	Б) XIX век
3. Екатерина Вторая	В) XVIII век
4. Наполеон	
5. Пётр Первый	

1	2	3	4	5

#### V. Задание по работе с иллюстративными источниками (12 баллов)


**17. Какие три суждения о данном изображении являются верными? Внесите соответствующие цифры в графу ответа. (6 баллов за полностью верный ряд, за каждое верно указанное суждение – 2 балла)**



1. Первоначальный проект памятника был признан «идеологическим вредным» и о нём вскоре забыли.
2. Памятник был открыт в г. Уфе 17 ноября 1967 года.
3. Памятник Салавату Юлаеву изображен на гербе города Уфы и является визитной карточкой башкирской столицы.
4. Автор памятника – скульптор Сосланбек Тавасиев.
5. Салават Юлаев – участник заграничных походов русской армии 1813-1814 гг.
6. Исторические события, непосредственным участником которых был Салават Юлаев произошли в царствование Екатерины II.

**Ответ:** \_\_\_\_\_

**18. Рассмотрите картину К.В. Лебедева и ответьте на вопросы (6 баллов за полностью верный ряд, за каждое верно указанное суждение – 2 балла)**



**Вопросы:**

- а) Какому событию в истории Руси посвящена картина К.В. Лебедева?
- б) Укажите год когда произошло это событие?
- в) Какое значение имело данное событие для Руси?

Ответ: \_\_\_\_\_

**ВСЕРОССИЙСКАЯ ОЛИМПИАДА ШКОЛЬНИКОВ  
ПО ИСТОРИИ  
2024-2025  
(ШКОЛЬНЫЙ ЭТАП)**

возрастная группа – **6 класс**

**Уважаемый Участник олимпиады!**

Перед Вами задания школьного этапа всероссийской олимпиады школьников по истории. Для их выполнения у Вас есть 45 минут.

Задания считаются выполненными, если Вы своевременно сдали бланк с ответами членам жюри.

Обращаем внимание, при выполнении заданий внимательно читайте текст заданий. Содержание ответа вписывайте в отведённые поля, записи ведите чётко и разборчиво. За каждый правильный ответ Вы можете получить определённое членами жюри количество баллов (количество баллов прописано в самом задании). Баллы, полученные Вами за выполненные задания, суммируются. Максимально возможное количество баллов за работу — 100.

Желаем Вам успеха! Мы верим, что Вы соберётесь и выполните задания!

**!Записи в черновике не учитываются при оценивании работы.**

**!Записи карандашом не проверяются.**



**Задания школьного этапа**  
**Всероссийской олимпиады школьников по истории**  
**6 класс**  
**2024-2025**

**I. Задание с выбором одного ответа из предложенных (30 баллов)**

**1. На каких реках появились первые цивилизации мира? (3 балла)**

- а) Сцилла и Харибда
- б) Тигр и Евфрат
- в) Нил и Бил
- г) Волга и Кама

**2. Что означала двойная корона фараонов Египта? (3 балла)**

- а) Небо и Землю
- б) Северный и Южный Египет
- в) природу фараонов
- г) Реки и почвы

**3. Какой материал использовался для строительства домов в Месопотамии? (3 балла)**

- а) Дерево
- б) Камень
- в) Глина
- г) Прутья

**4. Какой правитель известен своим сводом законов? (3 балла)**

- а) Гильгамеш
- б) Хаммурапи
- в) Шамаш
- г) Навуходоносор

**5. Какой народ впервые начал использовать для записи языка буквы? (3 балла)**

- а) Финикийцы
- б) Греки
- в) Римляне
- г) Корейцы

**6.Какая дисциплина, устанавливает даты исторических событий и явлений? (3 балла)**

- а) Геральдика
- б) Нумизматика
- в) Картография
- г) Хронология

**7.Строительство Великой Китайской стены связано с этим правителем...(3 балла)**

- а) Конфуций
- б) Ашока
- в) Будда
- г) Цинь Шихуан

**8. Сцилла и Харибда, Полифем, Навсикая, Телемак, связаны с одной из поэм Гомера под названием...(3 балла)**

- а) Одиссея
- б) Илиада
- в) Птицы
- г) Троя

**9. Сколько было римских царей, перед установлением Республики? (3 балла)**

- а) семь
- б) пять
- в) четыре
- г) один

**10.Именно этот римский полководец, известный завоеванием Галлии, был убит у статуи своего врага...(3 балла)**

- а) Помпей Великий
- б) Сципион Африканский
- в) Гай Юлий Цезарь
- г) Ганнибал

## **II. Задание с выбором нескольких ответов из предложенных (18 баллов)**

**11. Назовите до трёх событий или явлений... (6 баллов за полностью правильный ответ, за каждое верно указанное событие – 2 балла)**

**А) связанных с событиями древнеримской истории:**

- 1) Земельные законы братьев Гракхов
- 2) основание Александрии Египетской

- 3) Завоевание Карфагена
- 4) Избрание первого стратега
- 5) Битва при Каннах
- 6) Битва при Гавгамеллах

Ответ: \_\_\_\_\_

**Б) связанных с событиями греческой истории**

- 1) Троянская война
- 2) Колонизация Африканского побережья
- 3) Марафонская битва
- 4) Битва при Заме
- 5) Завоевание Македонии
- 6) Распад империи Александра Македонского

Ответ: \_\_\_\_\_

**12. Выберите из предложенного перечня события, относящиеся к XIII веку. (6 баллов):**

- 1) Основание Москвы
- 2) Захват Киева монголо-татарами
- 3) Невская битва
- 4) Возведение Софийского собора
- 5) Битва на Чудском озере

Ответ: \_\_\_\_\_

**III. Задание на установление последовательности (37 баллов)**

**13. Восстановите правильную хронологическую последовательность событий. Запишите ответ в виде последовательности номеров событий в задании (7 баллов за верную последовательность, 4 балла при двух ошибках, 0 баллов – две и более ошибки)**

- 1) Хаммурапи
- 2) Тутмос
- 3) Ксеркс
- 4) Ромул
- 5) Перикл
- 6) Октавиан Август
- 7) Траян

--	--	--	--	--	--	--

**14. Восстановите правильную хронологическую последовательность событий. Запишите ответ в виде последовательности номеров событий в задании (10 баллов за верную последовательность, 5 баллов при двух ошибках, 0 баллов – две и более ошибки)**

- 1) Распад СССР
- 2) Первая мировая война
- 3) Великая Отечественная война
- 4) Первый полет человека в космос
- 5) Гражданская война

--	--	--	--	--

**15. Восстановите правильную хронологическую последовательность событий. Запишите ответ в виде последовательности номеров событий в задании (10 баллов за верную последовательность, 5 баллов при двух ошибках, 0 баллов – четыре и более ошибки)**

- 1) Избрание на царство Бориса Годунова (1558 г.)
- 2) Свержение царя Василия Шуйского (1610 г.)
- 3) Убийство Лжедмитрия (1606 г.)
- 4) Призвание Михаила Романова на царство (1612 г.)
- 5) Вступление войск Лжедмитрия в Москву (1604 г.)

--	--	--	--	--	--

**16. Восстановите правильную хронологическую последовательность правления. Запишите ответ в виде последовательности номеров событий в задании (10 баллов за верную последовательность, 5 баллов при двух ошибках, 0 баллов – четыре и более ошибки)**

- 1) Петр I (1682-1721гг.)
- 2) Екатерина II (1762-1796 гг.)
- 3) Анна Иоанновна (1730-1740гг.)
- 4) Александр I (1801-1825 гг.)
- 5) Николай II (1894-1917 гг.)

--	--	--	--	--

#### **IV. Задания на соответствие (9 баллов)**

**17. Найдите верное соответствие. Ответ дать в таблице. (9 баллов за полностью верный ряд, за каждое правильно указанное соответствие -1 балл)**

Боги	Страна
1. Зевс	А) Греция Б) Рим
2. Юпитер	
3. Веста	
4. Венера	
5. Афродита	
6. Марс	
7. Арес	
8. Дионис	
9. Аполлон	

--	--	--	--	--	--	--	--	--

**V. Задание по работе с иллюстративными источниками (6 баллов)**


**18. Какие три суждения о данном изображении являются верными? Внесите соответствующие цифры в графу ответа. (3 балла за полностью верный ряд, за каждое верно указанное суждение – 1 балл)**



1. Первоначальный проект памятника был признан «идеологическим вредным» и о нём вскоре забыли.
2. Памятник был открыт в г. Уфе 17 ноября 1967 года.
3. Памятник Салавату Юлаеву изображен на гербе города Уфы и является визитной карточкой башкирской столицы.
4. Автор памятника – скульптор Сосланбек Тавасиев.
5. Салават Юлаев – участник заграничных походов русской армии 1813-1814 гг.
6. Исторические события, непосредственным участником которых был Салават Юлаев произошли в царствование Екатерины II.

**Ответ:** \_\_\_\_\_

**19. Рассмотрите картину К.В. Лебедева и ответьте на вопросы (3 балла за полностью верный ряд, за каждое верно указанное суждение – 1 балл)**



**Вопросы:**

- а) Какому событию в истории Руси посвящена картина К.В. Лебедева?
- б) Укажите год когда произошло это событие?
- в) Какое значение имело данное событие для Руси?

Ответ: \_\_\_\_\_

**ВСЕРОССИЙСКАЯ ОЛИМПИАДА ШКОЛЬНИКОВ**  
**ПО ИСТОРИИ**  
**2024-2025**  
**(ШКОЛЬНЫЙ ЭТАП)**

Возрастная группа – 7 класс

**Уважаемый Участник олимпиады!**

Перед Вами задания школьного этапа всероссийской олимпиады школьников по истории. Для их выполнения у Вас есть 90 минут.

Задания считаются выполненными, если Вы своевременно сдали бланк с ответами членам жюри.

Обращаем внимание, при выполнении заданий внимательно читайте текст заданий. Содержание ответа вписывайте в отведённые поля, записи ведите чётко и разборчиво. За каждый правильный ответ Вы можете получить определённое членами жюри количество баллов (количество баллов прописано в самом задании). Баллы, полученные Вами за выполненные задания, суммируются. Максимально возможное количество баллов за работу — 100.

Желаем Вам успеха! Мы верим, что Вы соберётесь и выполните задания!

**!Записи в черновике не учитываются при оценивании работы.**

**!Записи карандашом не проверяются.**

**Задания школьного этапа**  
**Всероссийской олимпиады школьников по истории**  
**7 класс**  
**2024-2025**

**I. Задание с выбором одного ответа из предложенных (10 баллов)**

**1. Церковь Покрова на Нерли была построена в...**

- а) Рязанском княжестве
- б) Владимиро-Суздальском княжестве
- в) Великом Новгороде
- г) Галицко-Волынском княжестве

**2. Флорентийская уния 1439 г. была подписана митрополитом...**

- а) Исидором
- б) Фотием
- в) Киприаном
- г) Ионой

**3. Александр Невский был Великим Владимирским князем в...**

- а) 1238-1246 гг.
- б) 1249-1252 гг.
- в) 1252-1263 гг.
- г) 1264-1272 гг.

**4. Династическая война на Руси происходила в правление...**

- а) Василия I
- б) Василия II
- в) Дмитрия Донского
- г) Ивана III

**5. Какая историческая пара относится к событиям XI века?**

- а) Принятие Правды Ярославичей – разделение христианской церкви на восточную «православную» и западную «католическую»
- б) Принятие Устава Мономаха – первый крестовый поход
- в) Крещение Руси – распад империи Карла Великого
- г) Походы Святослава – первый крестовый поход

**6. Союзник Ивана III в стоянии на реке Угре...**

- а) Литовский князь
- б) Крымский хан



- в) Казанский хан
- г) Польский король

**7. Картина «Видение отроку Варфоломею» была написана...**

- а) В. И. Суриковым
- б) Е. Е. Репиным
- в) В. Г. Перовым
- г) М. В. Нестеровым

**8. Какое событие было раньше всех?**

- а) Сожжение Москвы Тохтамышем
- б) Антиордынское восстание в Твери
- в) Ледовое побоище
- г) Битва на реке Воже

**9. Свободные люди в Древней Руси назывались...**

- а) Смердами
- б) Закупами
- в) Рядовичами
- г) Людьями

**10. Памятник Н. Я. Киселёву, спасшему в 1942 г. 218 евреев – женщин, детей, стариков, поставлен в...**

- а) Белебее
- б) Бирске
- в) Благовещенске
- г) Уфе

Ответ

1	2	3	4	5	6	7	8	9	10

**II. Задание с выбором нескольких ответов из предложенных (13 баллов)**

**1. Прославленные лётчики Великой Отечественной войны (3 балла):**

- а) Муса Гареев
- б) И. Н. Кожедуб
- в) В. Г. Зайцев
- г) А. П. Маресьев
- д) И. В. Панфилов

Ответ: \_\_\_\_\_

**2. Какие города были разорены Батыем во время первого похода на Русь(1237-1238) (5 баллов):**

- а) Рязань
- б) Владимир
- в) Киев
- г) Торжок
- д) Чернигов
- е) Козельск
- ж) Суздаль

Ответ: \_\_\_\_\_

**3. Какие события произошли в правление Ярослава Мудрого? (5 баллов)**

- а) Принятие Устава о резах и закупах
- б) Битва с Мстиславом Владимировичем
- в) Окончательный разгром печенегов
- г) Основание города Юрьева
- д) Съезд князей в Любече
- е) Постройка Софийского собора в Киеве
- ж) Выбран русский по происхождению митрополит

Ответ: \_\_\_\_\_

### **III. Задание на установление последовательности (17 баллов)**

**1. Восстановите правильную хронологическую последовательность событий. Запишите ответ в виде последовательности номеров событий в задании (5 баллов за верную последовательность, за ответ с двумя ошибками 2 балла, за ответ с 4 ошибками 0 баллов)**

- а) Переезд митрополита Петра из Владимира в Москву
- б) Невская битва
- в) Освобождение Руси от ордынского ига
- г) Куликовская битва
- д) Грюнвальдская битва

Ответ:

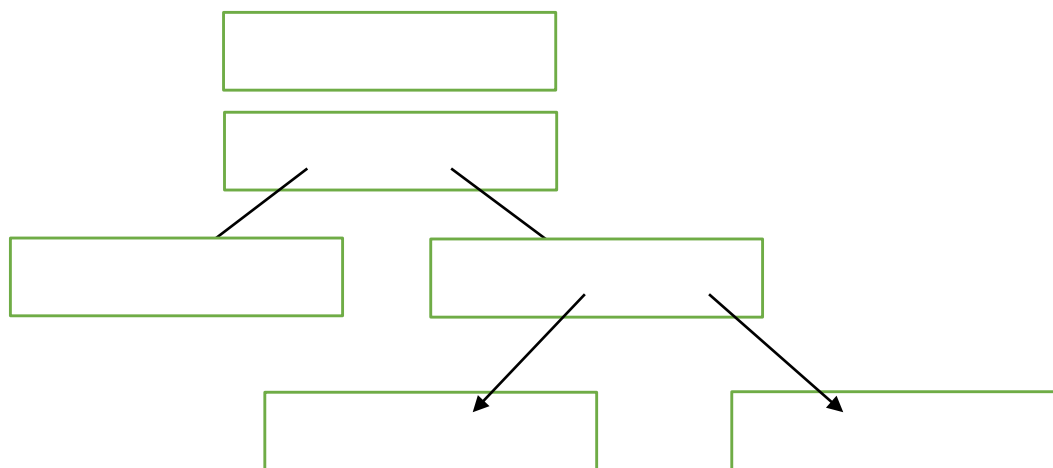
--	--	--	--	--

**2. Расставить в хронологическом порядке правления князей. Ответ оформить буквами в схеме. (12 баллов)**

- а) Ярослав Всеволодович
- б) Юрий Всеволодович
- в) Юрий Долгорукий
- г) Всеволод Большое Гнездо

- д) Андрей Боголюбский
- е) Владимир Мономах

Ответ:



#### IV. Задания на соответствие (14 баллов)

**1. Соотнести термины понятий и их определений. Ответ дать в таблице. (7 баллов за полностью правильный ответ, за каждое верно указанное соответствие – 1 балл)**

1. вервь	а) древнейший тип письма на Руси
2. окольный	б) военачальник
3. воевода	в) выборный руководитель городского ополчения
4. посадник в Новгороде	г) территориальное объединение сельских жителей
5. ряд	д) второй чин боярской думы
6. тысяцкий в Новгороде	е) договор в Древней Руси
7. устав	ж) выборный глава городского управления

Ответ:

1	2	3	4	5	6	7

**2. Соотнести князей и их высказывания. Ответ оформить в таблице (7 баллов за полностью правильный ответ, за каждое верно указанное соответствие – 1 балл)**

1) Андрей Боголюбский	а) «Да будет это мать городов»
2) Ярослав Мудрый	б) «Какое вам зло я нанёс? Если кровь мою прольёте на земле, пусть бог отомстит вам за мой хлеб!»
3) Святослав Игоревич	в) «Вот перебыю всех братьев и один буду править Русью»
4) Святополк Окаянный	г) «Вот взял уже ваш город славный. Слышал, что имеете сестру-девицу, если не отдадите её за меня, то сделаю со столицей вашей то же, что и этому городу»
5) Владимир I	д) «А всего походов было восемьдесят и три великих, а остальных и не упомяну меньших»
6) Олег	е) «Имейте любовь между собой, потому что все вы – братья»
7) Владимир Мономах	ж) «Иду на вы»

Ответ:

1	2	3	4	5	6	7

**V. Задание на заполнение пропущенных элементов в тексте (11 баллов)**

**1. Вставьте вместо пропусков порядковые номера соответствующих слов, дат, имён из предложенного списка. Обратите внимание: в списке слов и сочетаний больше, чем пропусков в тексте (11 баллов за полностью правильный ответ, 1 балл за каждое правильно указанное слово)**

А. Ценнейшими произведения Древнерусской литературы являются (1).

Б. Крупнейшим центром Руси, где велись (1), был (2) монастырь. Здесь трудился самый известный из древнерусских писателей – монах (3).

В. В (2) монастыре в начале (4) века на основе более древних текстов была создана («5»).

Г. Составлялись также (6), то есть жизнеописания святых. («7») посвящено трагической судьбе русских князей-братьев, их мученической кончине.

Д. Одним из памятников Древнерусской литературы является («8») киевского митрополита (9). В этой торжественной проповеди (9) восхвалял православную веру и её крестителя – князя Владимира.

Е. Замечательным памятником Древнерусской литературы стало («10») (11). Князь написал его незадолго до смерти. Он вспоминает пережитое, советует, что нужно делать, чтобы стать мудрым и справедливым правителем, храбрым воином, любящим отцом семьи.

Список слов:

- 1) «Слово о законе и благодати»
- 2) Мономах
- 3) XII век
- 4) XI век
- 5) Киево-Печерский
- 6) Былины
- 7) Летописи
- 8) «Сказание о Борисе и Глебе»
- 9) Жития
- 10) Сильвестр
- 11) «Повесть временных лет»
- 12) Сказание
- 13) «Поучение»
- 14) Ярослав Мудрый
- 15) Иларион
- 16) Лаврентьевская летопись
- 17) Нестор
- 18) Феодосий Печерский

Ответ:

А.1-

Б.2- 3-

В.4- 5-

Г.6- 7-

Д.8- 9-

Е.10- 11-

## **VI. Задания, требующие формулировки краткого ответа (13 баллов)**

**1. Прочитайте фрагмент из «Повести временных лет» и ответьте на вопросы. (13 баллов)**

В год 6453. Сказала дружина Игорю «Отроки Свенельда изоделись оружием и одеждой, а мы наги. Пойдем, князь, с нами за данью, и себе добудешь, и нам». И послушал их Игорь – пошёл к древлянам за данью и прибавил к прежней дани новую, и творили насилие над ними мужи его. Взяв дань, пошёл он в свой город. Когда же шёл он назад, - переосмыслив, сказал своей дружине «Идите вы с данью домой, а я возвращусь и похожу ещё».

И отпустил дружину свою домой, а сам с малою частью дружины вернулся, желая большего богатства. Древляне же, услышав, что идёт снова, держали совет с князем своим Малом и сказали: «Если повадится волк к овцам, то выносит всё стадо, пока не бьют его, так и этот, если не убьём его, то всех нас погубит». И послали к нему, говоря «Зачем идёшь опять? Забрал уже всю дань». И не послушал их Игорь, и древляне, выйдя навстречу ему из города Искоростеня, убили Игоря и дружинников его, так как было их мало.

#### Вопросы к документу

1. Какого летоисчисления указан год убийства Игоря древлянами?
2. Как перевести этот год на летоисчисление от Рождества Христова?
3. Назовите этот год по летоисчислению от Рождества Христова
4. Почему Игорь мог собрать не только прежнюю, но и новую дань, и вернулся к древлянам за дополнительной данью?
5. Как поступила княгиня Ольга в ответ на убийство мужа: назовите её действия в отношении древлян и по наведению порядка при сборе дани.
6. Что говорится по поводу кровной мести в Правде Ярослава?
7. Что говорится по поводу кровной мести в Правде Ярославичей?

Ответ:

- 1-
- 2-
- 3-
- 4-
- 5-
- 6-
- 7-

#### **VII. Задания по работе с иллюстративными источниками (22 балла)**

**1. Рассмотрите картину В. М. Васнецова «После побоища...» и ответьте на вопросы (4 балла)**



**Вопросы:**

- а) Какому событию в истории Руси посвящена картина В. М. Васнецова?
- б) Когда произошло это событие?
- в) В каком литературном произведении это событие нашло отражение?

Ответ: \_\_\_\_\_

**2. Внимательно посмотрите на портреты и выполните задания (18 баллов)**





**Вопросы:**

- а) Назовите каждого, кто изображён на портретах.
- б) Что объединяет их всех?
- в) Кто выпадает из этого перечня? Почему? Обратите внимание на время деятельности лиц, изображённых на портретах.

Ответ: \_\_\_\_\_



**ВСЕРОССИЙСКАЯ ОЛИМПИАДА ШКОЛЬНИКОВ**  
**ПО ИСТОРИИ**  
**2024-2025**  
**(ШКОЛЬНЫЙ ЭТАП)**

Возрастная группа – 8 класс

**Уважаемый Участник олимпиады!**

Перед Вами задания школьного этапа всероссийской олимпиады школьников по истории. Для их выполнения у Вас есть 90 минут.

Задания считаются выполненными, если Вы своевременно сдали бланк с ответами членам жюри.

Обращаем внимание, при выполнении заданий внимательно читайте текст заданий. Содержание ответа вписывайте в отведённые поля, записи ведите чётко и разборчиво. За каждый правильный ответ Вы можете получить определённое членами жюри количество баллов (количество баллов прописано в самом задании). Баллы, полученные Вами за выполненные задания, суммируются. Максимально возможное количество баллов за работу — 100.

Желаем Вам успеха! Мы верим, что Вы соберётесь и выполните задания!

**!Записи в черновике не учитываются при оценивании работы.**

**!Записи карандашом не проверяются.**

**Задания школьного этапа**  
**Всероссийской олимпиады школьников по истории**  
**8 класс**  
**2024-2025**

**I. Задание с выбором одного ответа из предложенных (10 баллов)**

- 1. Христианское имя Георгий носил...(1 балл)**
  - а) Святослав
  - б) Ярополк
  - в) Владимир I
  - г) Ярослав Мудрый
  
- 2. Роль посредника в торговле между Европейской Россией и Сибирью выполняла ярмарка...(1 балл)**
  - а) Свенская
  - б) Макарьевская
  - в) Ирбитская
  - г) Сорочинская
  
- 3. К числу литературных произведений XVI века не относится...(1 балл)**
  - а) Переписка Ивана IV и Андрея Курбского
  - б) «Большая челобитная» Ивана Пересветова
  - в) «Повесть об Азовском осадном сидении»
  - г) «Повесть о взятии Казани»
  
- 4. Отмена Юрьева дня была подтверждена...(1 балл)**
  - а) Судебником 1497 г.
  - б) Судебником 1550 г.
  - в) Указом 1597 г.
  - г) Соборным уложением
  
- 5. Александр Невский был Великим владимирским князем после...(1 балл)**
  - а) Ярослава Всеволодовича
  - б) Андрея Ярославича
  - в) Ярослава Ярославича
  - г) Василия Ярославича
  
- 6. Картина «Видение отроку Варфоломею» написана...(1 балл)**

- а) М. В. Нестеровым
- б) В. И. Суриковым
- в) И. Е. Репиным
- г) В. Г. Перовым

**7. Иван III стал именоваться «государем всея Руси» после...(1 балл)**

- а) Стояния на реке Угре
- б) Женитьбы на Софье Палеолог
- в) Присоединения Новгорода
- г) Присоединения Твери

**8. Памятник Н. Я. Киселёву, спасшему в 1942 г. 218 евреев – стариков, детей, женщин, – находится в...(1 балл)**

- а) Белебее
- б) Благовещенске
- в) Стерлитамаке
- г) Бирске

**9. Кого вече в Великом Новгороде не выбирало...(1 балл)**

- а) Князя
- б) Посадника
- в) Тысяцкого
- г) Архиепископа

**10. Какая пара исторических деятелей относится к XVI веку...(1 балл)**

- а) Михаил Фёдорович – Колумб
- б) Ирина Годунова – Жанна д'Арк
- в) Иван Грозный – Елизавета I
- г) Никон – Васко да Гама

Ответ:

1	2	3	4	5	6	7	8	9	10

**II. Задание с выбором нескольких ответов из предложенных (12 баллов)**

**1. Выберите из предложенного перечня события, относящиеся к XIII веку. (4 балла):**

- а) Битва на реке Воже
- б) Невская битва
- в) Гибель Юрия Всеволодовича на реке Сить
- г) Создание Нестором «Повести временных лет»

- д) Ледовое побоище
- е) Нашествие Батые на Северо-Восточную Русь

Ответ: \_\_\_\_\_

**2. Ко времени правления Ивана Грозного относятся события... (4 балла):**

- а) Создание стрелецкого войска
- б) Созыв первого Земского собора
- в) Вотчинникам запрещено без разрешения царя продавать свои вотчины монастырям
- г) Присоединение Смоленска
- д) Венчание на царство
- е) Создание полков нового строя

Ответ: \_\_\_\_\_

**3. Прославленные лётчики Великой Отечественной войны: (4 балла)**

- а) Д. М. Карбышев
- б) А. И. Покрышкин
- в) И. Н. Кожедуб
- г) В. Г. Зайцев
- д) Муса Гареев
- е) А. П. Маресьев

Ответ: \_\_\_\_\_

**III. Задание на установление последовательности (10 баллов)**

**1. Восстановите правильную хронологическую последовательность событий. Запишите ответ в виде последовательности номеров событий в задании (5 баллов за верную последовательность, за ответ с 2 ошибками – 2 балла, за ответ с 4 ошибками – 0 баллов)**

- а) Заключение первого письменного договора с Византией
- б) Крещение Руси
- в) Поездка посольства княгини Ольги в Константинополь
- г) Гибель Святослава от печенегов
- д) Призвание варягов

Ответ:

--	--	--	--	--

**2. Установите хронологический порядок заключения договоров с Речью Посполитой (5 баллов за верную последовательность, за ответ с 2 ошибками – 2 балла, за ответ с 4 ошибками – 0 баллов)**

- а) Вечный мир

- б) Деулинское перемирие
- в) Ям-Запольское перемирие
- г) Андрусовское перемирие
- д) Поляновский договор

Ответ:

--	--	--	--	--

#### **IV. Задания на соответствие (12 баллов)**

**1. Соотнесите термины понятий и их определения. Ответ дать в таблице (7 баллов)**

- |               |  |
|---------------|--|
| 1. Пушкарь    | а) Начальник канцелярии различных ведомств           |
| 2. Окольничий | б) Первый чин Боярской думы                          |
| 3. Поместье   | в) Служилый человек «по прибору»                     |
| 4. Вотчина    | г) Царский наместник в городе                        |
| 5. Боярин     | д) Второй чин Боярской думы                          |
| 6. Воевода    | е) Наследственное земельное владение                 |
| 7. Дьяк       | ж) Земельное владение, дававшееся дворянам за службу |

Ответ:

1	2	3	4	5	6	7

**2. Соотнесите авторов и их произведения (5 баллов):**

- |                      |                |
|----------------------|----------------|
| 1. Сильвестр         | а) Букварь     |
| 2. Авраамий Палицын  | б) «Синописис» |
| 3. Иннокентий Гизель | в) «Житие»     |
| 4. Аввакум Петров    | г) «Сказание»  |
| 5. Карион Истомин    | д) «Домострой» |

Ответ:

1	2	3	4	5

#### **V. Задание на заполнение пропусков в тексте (20 баллов)**

1. Вставьте в пропуски нужные слова, даты (20 баллов)

А. Алексей Михайлович скончался в (1) году. Новым царём был провозглашён его старший сын (2).

Б. В 1678-1679 гг. правительством (2) была проведена перепись населения и введено (3) налогообложение. Вместо многочисленных налогов стали

собирать только стрелецкие деньги, общая сумма которых развёртывалась по дворам в зависимости от достатка.

В. В правление (2) осложнились отношения с Крымом и (4), поскольку последняя претендовала на украинские земли. В 1677 году крымцы и турки напали на крепость (5), которая находилась на Правобережной Украине.

Г. В 1681 году в (6) – столице Крымского ханства (5) и Россия заключили перемирие на 30 лет, согласно которому признавались права России на (7) часть Украины.

Д. В (8) году на заседании Боярской думы и Земского собора было отменено (9). В Кремле состоялось публичное сожжение разрядных книг, на основании которых можно было определить, представители какого рода получали более высокие назначения.

Е. Правление (2) продолжалось до (10) года.

Ответ:

А 1-

2-

Б 3-

В 4-

5-

Г 6-

7-

Д 8-

9-

Е 10-

## **VI. Задание на формулирование краткого ответа (14 баллов)**

**Прочитайте отрывок из «Курса русской истории» В. О. Ключевского и ответьте на вопросы (14 баллов).**

Летописец отмечает, что с тех пор, как московский князь получил от хана великокняжеское звание Северная Русь начала отдыхать от постоянных татарских набегов...

В эти спокойные годы успели народиться и вырасти целых два поколения, к нервам которых впечатления от детства не привили безотчётного ужаса отцов и дедов перед татарами: они и вышли на Куликовое поле.


Вопросы:

1. О каком московском князе пишет В. О. Ключевский? Назовите годы его княжения, когда он был московским князем.

2. В каком году и в результате какого события он получил великокняжеское звание?
3. Каким по счёту он был московским князем? Кто был первым московским князем?
4. Какие князья обладали правом старшинства? Кто был среди них первым?
5. Какое образное название получили спокойные годы, о которых идёт речь в тексте? Сколько лет они продолжались?
6. Какие последствия для будущего имели эти годы?
7. Какой князь первым начал освободительную войну против ордынского ига? В какие годы он княжил?

## **VII. Задания по работе с иллюстративными источниками (22 балла)**

1. Рассмотрите представленный на изображении памятник и ответьте на вопросы (4 балла)



- а) Назовите лиц, представленных в этом памятнике
- б) В каком городе и в каком месте он установлен?
- в) На какие средства был создан памятник?
- г) В каком веке и после каких событий был установлен этот памятник?



Задания:

- а) Назовите каждого человека, изображённого на портрете.
- б) Что объединяет всех, кто изображён на портретах (т.е. по какому принципу создан ряд этих людей)?
- в) Кто выпадает из этого ряда? Почему?

Ответ:

1. а-
- б-
- в-
- г-
- д-
- е-
- 2-
- 3-



**ВСЕРОССИЙСКАЯ ОЛИМПИАДА ШКОЛЬНИКОВ  
ПО ИСТОРИИ  
2024-2025  
(ШКОЛЬНЫЙ ЭТАП)**

возрастная группа – **9 класс**

**Уважаемый Участник олимпиады!**

Перед Вами задания школьного этапа всероссийской олимпиады школьников по истории. Для их выполнения у Вас есть 90 минут.

Задания считаются выполненными, если Вы своевременно сдали бланк с ответами членам жюри.

Обращаем внимание, при выполнении заданий внимательно читайте текст заданий. Содержание ответа вписывайте в отведённые поля, записи ведите чётко и разборчиво. За каждый правильный ответ Вы можете получить определённое членами жюри количество баллов (количество баллов прописано в самом задании). Баллы, полученные Вами за выполненные задания, суммируются. Максимально возможное количество баллов за работу — 100.

Желаем Вам успеха! Мы верим, что Вы соберётесь и выполните задания!

**!Записи в черновике не учитываются при оценивании работы.**

**!Записи карандашом не проверяются**

**Задания школьного этапа**  
**Всероссийской олимпиады школьников по истории**  
**9 класс**  
**2024-2025**

**I. Задание с выбором одного ответа из предложенных (10 баллов)**

**1. Совместный поход князей в 1111 году против половцев возглавил: (1 балл)**

- а) Олег Святославич
- б) Святополк Изяславич
- в) Владимир Мономах
- г) Мстислав Владимирович

**2. Год окончания столетней войны совпадает с годом: (1 балл)**

- а) Начала княжения Василия II
- б) Начала династической войны
- в) Окончания династической войны
- г) начала правления Ивана III

**3. Какое событие во внешней политике не относится к правлению Михаила Фёдоровича: (1 балл)**

- а) Деулинское перемирие
- б) Андрусовское перемирие
- в) Поляновский мир
- г) Столбовский мир

**4. Какое событие произошло позже всех? (1 балл)**

- а) призвание Рюрика в Новгород
- б) война Алой и Белой розы в Англии
- в) Ледовое побоище
- г) Разделение христианской церкви на восточную(православную) и западную(католическую)

**5. Кто не входил в состав Избранной Рады? (1 балл)**

- а) Андрей Курбский
- б) Василий Голицын
- в) Алексей Адашев
- г) Сильвестр

**6. Современниками были: (1 балл)**

- а) Екатерина II, Салават Юлаев, Кинзя Арсланов, Панин
- б) Екатерина II, Салават Юлаев, Батырша, Панин
- в) Екатерина II, Салават Юлаев, Кинзя Арсланов, Павел Ягужинский
- г) Екатерина II, Салават Юлаев, Кинзя Арсланов, Пётр Толстой

**7. Какое событие произошло раньше всех? (1 балл)**

- а) Медный бунт
- б) Присоединение Крыма к России
- в) Открытие Америки
- г) Стояние на р. Угре

**8. Бывшие монастырские крестьяне при Екатерине II стали называться: (1 балл)**

- а) Посессионными
- б) Приписными
- в) Экономическими
- г) Дворцовыми

**9. Церковь Покрова на Нерли была построена при: (1 балл)**

- а) Владимире Мономахе
- б) Юрии Долгоруком
- в) Андрее Боголюбском
- г) Всеволоде Большое Гнездо

**10. Памятник Н. Я. Киселёву, спасшему в 1942 г. 218 евреев – стариков, детей, женщин, – находится в: (1 балл)**

- а) Белебее
- б) Благовещенске
- в) Стерлитамаке
- г) Бирске

Ответ:

1	2	3	4	5	6	7	8	9	10

**II. Задание с выбором нескольких ответов из предложенных (7 баллов)**

**1. Прославленные лётчики Великой Отечественной войны (3 балла):**

- а) Д. М. Карбышев
- б) Муса Гареев
- в) И. Н. Кожедуб
- г) В. Г. Зайцев

д) А. И. Покрышкин  
Ответ: \_\_\_\_\_

**2. К правлению Алексея Михайловича относятся (3 балла):**

- а) Ликвидация местничества
- б) Ликвидация белых слобод в городах
- в) Создание Приказа тайных дел
- г) Отмена кормлений
- д) Восстание под предводительством Степана Разина
- е) Воссоединение Украины с Россией

Ответ: \_\_\_\_\_

**III. Задание на установление последовательности (15 баллов)**

**1. Расставить в хронологической последовательности события из церковной жизни XIV-XVI вв. Запишите ответ в виде последовательности номеров событий в задании (5 баллов за верную последовательность, за ответ за 2 ошибками – 2 балла, за ответ с 4 ошибками – 0 баллов)**

- а) Стоглавый собор, унифицировавший обряды
- б) Московское правительство возглавил митрополит Алексей
- в) Иов избран патриархом
- г) Русская православная церковь становится автокефальной
- д) Митрополичья кафедра перенесена из Владимира в Москву

--	--	--	--	--

**2. Расставить имена правителей по продолжительности правления, начиная с лидеров, правивших большее время (10 баллов)**

- 1. 50 лет
- 2. 35 лет
- 3. 33 года
- 4. 30 лет
- 5. 28 лет

Имена: Олег, Ярослав Мудрый, Дмитрий Донской, Василий III, Иван Грозный

Ответ:

- 1-
- 2-
- 3-
- 4-
- 5-

#### **IV. Задание на соответствие (7 баллов)**

**2. Соотнести князей и их высказывания. Ответ оформить в таблице (7 баллов)**

1) Андрей Боголюбский	а) «Да будет это мать городов»
2) Ярослав Мудрый	б) «Какое вам зло я нанёс? Если кровь мою прольёте на земле, пусть бог отомстит вам за мой хлеб!»
3) Святослав Игоревич	в) «Вот перебыю всех братьев и один буду править Русью»
4) Святополк Окаянный	г) «Вот взял уже ваш город славный. Слышал, что имеете сестру-девицу, если не отдадите её за меня, то сделаю со столицей вашей то же, что и этому городу»
5) Владимир I	д) «А всего походов было восемьдесят и три великих, а остальных и не упомяну меньших»
6) Олег	е) «Имейте любовь между собой, потому что все вы – братья»
7) Владимир Мономах	ж) «Иду на вы»

Ответ:

1	2	3	4	5	6	7

#### **V. Задание на заполнение пропущенных элементов в тексте (24 балла)**

**1. Прочитайте текст и вставьте пропущенные в нём слова. (всего 24 балла)**

Высшим государственным органом, подчинённым монарху стал (1). Пётр I учредил его в (2) году, отправляясь в Прутский поход (2). Царь возложил на (1) высшие административные функции, наделил его правом издавать указы.

Центральными органами власти стали сменившие приказы (3), созданием которых Пётр I занимается в 1718-1721 годах. Их функции были строго определены.

Ведущее место принадлежало трём первейшим (3) (4,5,6). Во главе (3) царь поставил лиц, на которых мог положиться. В частности, военную коллегия возглавил (7).

Для того чтобы не только разоблачать, но и предупреждать все случаи нарушения законов, Пётр I в 1722 г. создал (8) – высший контрольный орган,

следивший за соблюдением законов. Во главе неё был поставлен - «око государево» (9). Первым (9) стал (10).

Реформы затронули и местное управление. В 1718 году страна была разделена на (11), которые состояли из (12) во главе с комендантами.

Ответ:

- 1-
- 2-
- 3-
- 4-
- 5-
- 6-
- 7-
- 8-
- 9-
- 10-
- 11-
- 12-

## **VI. Дать ответы на поставленные вопросы (12 баллов)**

### **1. Прочитайте отрывок из документа и ответьте на вопросы к нему. (12 баллов)**

«В прошлом, в 1641 году обратились с просьбой к государю царю и великому князю всея Руси дворяне и дети боярские из разных городов всей земли...

Убегают от них старинные их крестьяне в разные города и большие поместья и в вотчины... и поселяются у бояр и окольных и других крупных столичных чинов людей на льготных условиях...

А если они узнают, у кого живут их беглые крестьяне и тогда они не могут добиться их выдачи в урочные годы по суду...»

Вопросы:

- а) К какому царю обращаются дворяне и дети боярские? Укажите годы его царствования.
- б) Судя по челобитной, чем были недовольны дворяне из разных мест России (т.е. провинциальные дворяне)?
- в) Почему крестьяне убежали от дворян к богатым и знатным людям?
- г) Какая была главная просьба дворян?


- д) Почему правительство не шло на удовлетворение главной просьбы дворян? Интересы какой социальной группы затрагивал вопрос о бегстве крестьян?
- е) Какое событие заставило правительство обратиться к вопросу о беглых крестьянах? Что было сделано для решения данного вопроса?

Ответы:

- а)
- б)
- в)
- г)
- д)
- е)

### **VII Задания по работе с иллюстративными источниками (25 баллов)**

1. Ответьте на вопросы (7 баллов)



- а) Назовите архитектурный памятник
- б) В честь какого события он был создан?
- в) Назовите архитектурный стиль, в котором он построен

2. Внимательно посмотрите на портреты и выполните задания.



Задания:

- а) Назовите каждого человека, изображённого на портрете.
- б) Что объединяет всех, кто изображён на портретах (т.е. по какому принципу создан ряд этих людей)?
- в) Кто выпадает из этого ряда? Почему?

Ответ:

1. а-
- б-
- в-
- г-
- д-
- е-
- 2-
- 3-



**ВСЕРОССИЙСКАЯ ОЛИМПИАДА ШКОЛЬНИКОВ  
ПО ИСТОРИИ  
2024-2025  
(ШКОЛЬНЫЙ ЭТАП)**

возрастная группа- **10 класс**

**Уважаемый Участник олимпиады!**

Перед Вами задания школьного этапа всероссийской олимпиады школьников по истории. Для их выполнения у Вас есть 90 минут.

Задания считаются выполненными, если Вы своевременно сдали бланк с ответами членам жюри.

Обращаем внимание, при выполнении заданий внимательно читайте текст заданий. Содержание ответа вписывайте в отведённые поля, записи ведите чётко и разборчиво. За каждый правильный ответ Вы можете получить определённое членами жюри количество баллов (количество баллов прописано в самом задании). Баллы, полученные Вами за выполненные задания, суммируются. Максимально возможное количество баллов за работу — 100.

Желаем Вам успеха! Мы верим, что Вы соберётесь и выполните задания!

**!Записи в черновике не учитываются при оценивании работы.**

**!Записи карандашом не проверяются.**

**Задания школьного этапа**  
**Всероссийской олимпиады школьников по истории**  
**10 класс**  
**2024-2025**

**I. Задание с выбором одного ответа из предложенных (10 баллов)**

**1. С именем какого правителя связано основание династии московских князей? (2 балла)**

- а) Даниил Александрович
- б) Юрий Долгорукий
- в) Иван Калита
- г) Всеволод Большое гнездо

**2. Какая историческая пара относится к событиям XVII века? (2 балла)**

- а) Разгром печенегов – строительство собора св. Софии в Новгороде
- б) Ледовое побоище – нашествие Батыея
- в) Приход к власти «семибоярщины» – Соляной бунт
- г) Создание стрелецкого войска – Ливонская война

**3. Кто из перечисленных лиц был современником императора Александра I? (2 балла)**

- а) А.П. Чехов
- б) С.О. Макаров
- в) П.И. Ягужинский
- г) А.А. Аракчеев

**4. Что из перечисленного было следствием революционных событий 1905-1907 гг.? (2 балла)**

- а) Учреждение Сената
- б) Создание Государственного Совета
- в) Учреждение Государственной Думы
- г) Подписание Манифеста об отречении от Престола

**5. В каком году СССР вошел в число стран-участниц Антигитлеровской коалиции? (2 балла)**

- а) 1939 г.
- б) 1941 г.
- в) 1935 г.
- г) 1943 г.

**II. Задание с выбором нескольких ответов из предложенных (6 баллов)**

**6. Назовите до трёх событий или явлений... (3 балла за полностью правильный ответ, при одной ошибке – 2 балла, при двух ошибках – 1 балл, более двух – 0 баллов)**

**А) связанных с преобразованиями в Российской империи второй четверти XVIII века:**

1. Перенесение столицы России из Санкт-Петербурга в Москву
2. Введение всеобщей воинской повинности
3. Создание Кабинета министров
4. Жалованная грамота городам
5. Ликвидация Верховного тайного совета
6. Указ о вольных хлебопашцах

Ответ: \_\_\_\_\_

**Б) связанных с Северной войной 1700-1721 гг.:**

1. Сражение при Козлудже
2. Битва при Нарве
3. Сан-Стефанский мирный договор
4. Полтавская битва
5. Штурм Измаила
6. Ништадтский мир
7. Сражение при Калиакрии

Ответ: \_\_\_\_\_

### **III. Задание на установление последовательности (14 баллов)**

**7. Восстановите правильную хронологическую последовательность событий. Запишите ответ в виде последовательности номеров событий в задании (1 верный ответ – 2 балла, все задание – макс. 14 баллов)**

1. Учреждение Императорской Академии наук
2. Основание Императорского Московского университета
3. Создание Третьяковской галереи
4. Открытие Славяно-греко-латинской академии
5. Основание московского Большого театра
6. Открытие Русского музея
7. Создание Императорского Царскосельского лицея

--	--	--	--	--	--	--

### **IV. Задания на соответствие (4 балла)**

**8. Найдите верное соответствие. Во втором столбце есть лишняя характеристика. Ответ дать в таблице. (4 балла – за полностью верный**

ряд, 3 балла – при одной ошибке, 2 балла – при двух ошибках, 1 балл – при трёх ошибках, 0 баллов – при четырех ошибках)

**Соотнесите российского общественного деятеля и его партийную принадлежность:**

1. А.И. Гучков	А. Русский монархический союз
2. П.Н. Милюков	Б. Партия социалистов-революционеров
3. В.М. Пуришкевич	В. «Союз 17 октября»
4. В.И. Ленин	Г. Конституционно-демократическая партия
5. В.М. Чернов	Д. Российская социал-демократическая рабочая партия (большевики)
	Е. «Русский народный союз имени Михаила Архангела»

1	2	3	4	5

**V. Задание на заполнение пропущенных элементов в тексте (33 балла)**

**9. Закончите предложение, вписав пропущенные слова (5 баллов за каждый верный ответ)**

А) В Российской империи XIX века представители общественной мысли, отрицавшие культурные, духовные ценности предшествующих поколений и современного им общества, выступавшие против пережитков крепостного права, назывались \_\_\_\_\_.

Б) Осуществленный в Советской России в 1917 – 1918 гг. переход из частной собственности в фонд государства земельных участков, промышленных предприятий, банков и т.д., посредством изъятия называется \_\_\_\_\_.

В) Система социально-экономических отношений, возникшая с 1810 года на территории Российской империи и объединившая сельскохозяйственные и военные функции, называлась \_\_\_\_\_.

**10. Заполните пробелы в тексте. Ответ оформите в таблице в виде перечня элементов под соответствующими номерами (по 2 балла за каждый верно заполненный пропуск, макс. балл - 18).**

В ходе летне-осенней кампании (1) года Ставка Верховного главнокомандующего планировала провести стратегическую операцию по окончательному освобождению (2 – **название территории**) от немецко-фашистских захватчиков. К проведению операции привлекались войска 1-го (3 – **территориальная принадлежность**) (командующий генерал армии И.Х. Баграмян), 3-го (командующий генерал-полковник И.Д. Черняховский), 2-го (командующий генерал-полковник Г.Ф. Захаров) и 1-го Белорусских фронтов

(командующий генерал армии (**4 – фамилия**), авиация Дальнего действия, Днепровская военная флотилия, а также большое количество соединений и отрядов белорусских партизан.

Замысел операции предусматривал глубокими ударами (**5 – количество**) фронтов прорвать оборону противника на 6-ти направлениях, окружить и уничтожить группировки врага на флангах белорусского выступа – в районах Витебска и Бобруйска, после чего, наступая по сходящимся направлениям на (**6 – город**), окружить и ликвидировать восточнее белорусской столицы главные силы группы армий (**7 – название**). В дальнейшем, наращивая силу удара, выйти на рубеж Каунас – Белосток – Люблин.

Мировая общественность по достоинству оценила события на центральном участке советско-германского фронта. Политические и военные деятели Запада, дипломаты и журналисты отмечали их значительное влияние на дальнейший ход Второй мировой войны. «Стремительность наступления Ваших армий изумительна», – писал президент Соединенных Штатов Америки (**8 – фамилия**) 21 июля 1944 г. И.В. Сталину. В телеграмме главе советского правительства от 24 июля премьер-министр (**9 – государство**) У. Черчилль назвал события в Белоруссии «победами огромной важности».

1	
2	
3	
4	
5	
6	
7	
8	
9	

#### VI. Задания по работе с иллюстративными источниками (6 балла)

**11. Какие три суждения о данном изображении являются верными? Внесите соответствующие цифры в графу ответа. (3 балла за полностью верный ряд, 2 балла при одной ошибке, 1 балл при двух, 0 баллов более двух ошибок)**

**А)**



1. Бумажные деньги в России появились благодаря Манифесту об основании двух ассигнационных банков и выпуске ассигнаций, изданному в период правления императрицы Екатерина II.
2. Автор инициативы появления российских бумажных денег – боярин Алексей Шейн.
3. За подделку бумажных денег была введена смертная казнь, лишь в редких случаях заменявшаяся вечной каторгой.
4. Бумажная ассигнация служила квитанцией об оплате особой пошлины на ношение бороды.
5. Ассигнации не пользовались популярностью, в силу слабой защищенностью и их резкого обесценивания в связи с ростом военных расходов.
6. В настоящее время ни одна из ассигнаций эпохи Екатерины II не сохранилась.




**Ответ:**

Б)



1. Первоначальный проект памятника был признан «идеологическим вредным» и о нём вскоре забыли.
  2. Памятник был открыт в г. Уфе 17 ноября 1967 года.
  3. Памятник Салавату Юлаеву изображен на гербе города Уфы и является визитной карточкой башкирской столицы.
  4. Автор памятника – скульптор Сосланбек Тавасиев.
  5. Салават Юлаев – участник заграничных походов русской армии 1813-1814 гг.
  6. Исторические события, непосредственным участником которых был Салават Юлаев произошли в царствование Екатерины II.
- Ответ: \_\_\_\_\_

**12. Перед вами – фрагменты литературных произведений, посвященных представителям воинской славы России, их портреты, годы и название военного противостояния. Определите о ком идет речь в каждом фрагменте, соотнесите с портретным изображением, годом и ареной боевых действий. Ответ оформите в таблице (За каждый правильный ответ в ячейке – 3 балла, вся строка – 9 баллов; макс. балл - 27).**

		
I	II	III

Отрывки литературных произведений:

А. Он Россию любил,  
Он России служил,

Ростом мал, да удал.  
И никто не забыл,  
Как он брал Измаил,  
Как геройски всегда воевал.

**Б.** ...Бьёт Севастопольский  
Прибой,  
А на Кургане  
Нет окопа —  
Он, вспомни!  
С бронзовой трубой  
Глядел на зарево  
Синопа!

**В.** Он на врагов взирая гневно,  
Их укрепления круша,  
Был прозван турками под Плевной-  
«Непобедимый Ак-Паша».

Название и годы военной кампании (под арабскими цифрами)

1. Русско-турецкая война 1788-1791 гг.
2. Крымская война 1853-1856 гг.
3. Русско-турецкая война 1877-1878 гг.

Ответ:

№ портрета	Кто изображён?	Отрывок (буква)	Название и годы военной кампании (цифра)
I			
II			
III			



**ВСЕРОССИЙСКАЯ ОЛИМПИАДА ШКОЛЬНИКОВ  
ПО ИСТОРИИ  
2024-2025  
(ШКОЛЬНЫЙ ЭТАП)**

возрастная группа – **11 класс**

**Уважаемый Участник олимпиады!**

Перед Вами задания школьного этапа всероссийской олимпиады школьников по истории. Для их выполнения у Вас есть 90 минут.

Задания считаются выполненными, если Вы своевременно сдали бланк с ответами членам жюри.

Обращаем внимание, при выполнении заданий внимательно читайте текст заданий. Содержание ответа вписывайте в отведённые поля, записи ведите чётко и разборчиво. За каждый правильный ответ Вы можете получить определённое членами жюри количество баллов (количество баллов прописано в самом задании). Баллы, полученные Вами за выполненные задания, суммируются. Максимально возможное количество баллов за работу — 100.

Желаем Вам успеха! Мы верим, что Вы соберётесь и выполните задания!

**!Записи в черновике не учитываются при оценивании работы.**

**!Записи карандашом не проверяются.**

**Задания школьного этапа**  
**Всероссийской олимпиады школьников по истории**  
**11 класс**  
**2024-2025**

**I. Задание с выбором одного ответа из предложенных (7 баллов)**

**1. Какой орган государственного управления считался основным центром принятия политических решений в Великом Новгороде XI – XV вв.? (1 балл)**

- а) Боярское собрание
- б) Князь Новгородский
- в) Вече
- г) Княжеская дружина

**2. Какая историческая пара относится к событиям XVI века? (1 балл)**

- а) Принятие Судебника – Стояние на реке Угре
- б) Деятельность Избранной рады – Ливонская война
- в) Ликвидация местничества – Присоединение Левобережной Украины
- г) Стрелецкие бунты – Азовские походы

**3. Кто из перечисленных лиц был современником императрицы Елизаветы Петровны? (1 балл)**

- а) Ф.И. Миллер
- б) А.Д. Меншиков
- в) М.М. Сперанский
- г) Е.П. Хабаров

**4. В каком году был открыт Московский Государственный Университет? (1 балл)**

- а) 1725 г.
- б) 1755 г.
- в) 1754 г.
- г) 1724 г.

**5. Как называлась стратегическая наступательная операция советских войск, окончание которой привело к разгрому группы армий «Центр» Вермахта? (3 балла)**

- а) «Уран»
- б) «Кольцо»
- в) «Багратион»
- г) Висло-Одерская

**II. Задание с выбором нескольких ответов из предложенных (10 баллов)**

**6. Назовите до трёх событий или явлений... (5 баллов за полностью правильный ответ, при двух ошибках – 3 балла, при одной ошибке – 2 балла, более одной – 0 баллов)**

**А) связанных с преобразованиями в Московском царстве второй половины XVI века:**

1. Принятие царского титула великим князем Иваном IV
2. Введение опричнины
3. Денежная реформа Елены Глинской
4. Созыв первого Земского собора
5. Принятие великокняжеского титула ханом Симеоном Бекбулатовичем
6. Введение патриаршества

Ответ: \_\_\_\_\_

**Б) связанных с Северной войной (1700 – 1721 гг.):**

- 1) Гангутское сражение
- 2) Осада Смоленска
- 3) Прутский поход
- 4) Оборона Шипки
- 5) Петропавловская оборона
- 6) Ништадский мирный договор
- 7) Синопское морское сражение

Ответ: \_\_\_\_\_

**III. Задание на установление последовательности (3 балла)**

**7. Восстановите правильную хронологическую последовательность событий. Запишите ответ в виде последовательности номеров событий в задании (3 баллов за верную последовательность)**

**А)**

1. Создание коллегий
2. Министерская реформа
3. Жалованная грамота дворянству
4. Первое заседание Государственной думы
5. Земская реформа

--	--	--	--	--

**IV. Задания на соответствие (3 балла)**

**8. Найдите верное соответствие. Во втором перечне есть лишняя характеристика. Ответ дать в таблице. (3 баллов за полностью верный ряд, 2 балла при одной ошибке, 1 балл при двух ошибках, 0 баллов при трёх ошибках, 0 баллов при четырёх ошибках)**

**А) Соотнесите представителя отечественной культуры и его творческую профессию:**

1. Б.Ф. Растрелли	А. Писатель
2. В.М. Гаршин	Б. Учёный
3. Н.А. Римский-Корсаков	В. Литературный критик
4. В.А. Серов	Г. Композитор
5. Д.И. Менделеев	Д. Художник
	Е. Архитектор

1	2	3	4	5

**У. Задание на заполнение пропущенных элементов в тексте (56 баллов)**

**9. Закончите предложение, вписав пропущенные слова (2 балла за каждый верный ответ)**

**А)** Натуральные сборы дани, осуществлявшиеся князем и его дружиной в ходе ежегодного объезда населения Руси, назывались\_\_\_\_\_.

**Б)** Нормативно-правовой акт, подписанный Петром I и закреплявший слияние таких форм земельного владения, как вотчина и поместье, назывался \_\_\_\_\_.

**В)** Правовой акт, нацеленный на ограничение абсолютной власти императрицы Анны Иоанновны, назывался\_\_\_\_\_.

**Г)** Высочайший манифест Александра III, в котором было провозглашено намерение «утверждать и охранять» самодержавную власть «от всяких на неё поползновений», официально назывался\_\_\_\_\_.

**10. Заполните пробелы в тексте. Ответ оформите в таблице в виде перечня элементов под соответствующими номерами (по 2 балла за каждый верно заполненный пропуск).**

**Вариант А)** В (1 – год) году состоялась (2 – название) рада – собрание представителей запорожского казачества во главе с гетманом (3 – имя и фамилия). Итогом данного собрания стало принятие решения о подданстве казаков русскому царю (4 – имя и отчество) и, как следствие, о вхождении населения и территории (5 – территория) в состав России. Однако ещё за год до этого события царский (6 – название) собор принял решение об объявлении войны (7 – название государства) в связи с обращением гетмана Запорожского Войска. Эта война продлилась до (8 – год) года и завершилась подписанием (9 – название) перемирия. Согласно данному документу,

России на постоянной основе переходил город (**10 – название города**), а город (**11 – название города**) переходил под контроль Москвы временно, на два года. В соответствии с положениями заключённого впоследствии (**12 – название**) мира он окончательно был оставлен за Россией.

1	
2	
3	
4	
5	
6	
7	
8	
9	
10	
11	
12	

**Вариант Б)** «В год... (**1 – год**) изгнали (**2 – название этнической группы**) и не дали им дани, и начали сами собой владеть, и не было среди них правды. И встал род на род, и была у них (**3 – исторический термин, обозначающий распрю**), и стали воевать друг с другом. И сказали себе: «Поищем себе (**4 – название главы государства у восточных славян**), который бы владел нами и судил по праву». ... Сказали ... чудь, словене, (**5 – название славянского племени**) и весь: «Земля наша велика и обильна, а наряда в ней нет. Приходите княжить и владеть нами»... И избрались трое братьев со своими родами, и взяли с собой всю (**6 – название родоплеменной группы**), и сел старший, (**7 – имя**), в (**8 – название города**), а другой, (**9 – имя**), на (**10 – название города**), а третий, (**11 – имя**), – в (**12 – название города**). И от тех варяг прозвалась Русская земля.

1	
2	
3	
4	
5	
6	
7	
8	
9	
10	
11	
12	

## VI. Задания по работе с иллюстративными источниками (21 балл)

11. Какие три суждения о данном изображении являются верными? Внесите соответствующие цифры в графу ответа. (3 баллов за полностью верный ряд, 2 балла при одной ошибке, 0 баллов при двух и более ошибках)

А)



1. Этот культурный деятель в 1890–1891 гг. проживал в Уфе.
2. В Российской империи он был известным поэтом и считался «певцом деревенского быта»
3. Одним из его друзей был знаменитый писатель Максим Горький.
4. За свой необычный и выразительный голос он получил прозвище «Царь-бас».
5. В 1915 г. он был вынужден навсегда покинуть Россию.
6. Всю свою жизнь он был солистом только одного театра – Мариинского.

**Ответ:**

Б)



1. Первоначальный проект памятника был признан идеологически «вредным», и о нём вскоре забыли.
2. Памятник был открыт в г. Уфе 17 ноября 1967 года.
3. Памятник Салавату Юлаеву изображен на гербе города Уфы и является визитной карточкой башкирской столицы.
4. Автор памятника – скульптор Сосланбек Тавасиев.
5. Салават Юлаев – участник заграничных походов русской армии 1813-1814 гг.
6. Исторические события, непосредственным участником

которых был Салават Юлаев произошли в царствование Екатерины II.

Ответ: \_\_\_\_\_

12. Перед вами карта боевых действий российской армии во время одной крупной войны. Прочитайте и ответьте на вопросы. Ответ впишите в выделенные строки (15 баллов, по 3 баллов за каждый верный ответ).



а) Что за событие изображено на карте?

\_\_\_\_\_

б) Назовите дату (с точностью до половины года) этого события:

\_\_\_\_\_

в) В рамках какой войны разворачивались эти боевые действия?

\_\_\_\_\_

г) Укажите №\_\_\_\_ и фамилию русского военачальника, командира 8-й армии Юго-Западного фронта, который участвовал в этом событии и впоследствии прославился как успешный полководец этой войны – \_\_\_\_\_, имеющего прямое отношение к изображению на карте:



д) Укажите последствия (не менее 3) этой войны для России: